

--	--

100 第一次國民中學學生基本學力測驗

社會科題本

請不要翻到次頁！

讀完本頁的說明，聽從監試委員的指示才開始作答！

※請先確認你的答案卡、准考證與座位號碼是否一致無誤。

請閱讀以下測驗作答說明：

測驗說明：

這是國民中學學生基本學力測驗社會科題本，題本採雙面印刷，共 **13** 頁，有 **63** 題選擇題，每題都只有一個正確或最佳的答案。測驗時間從 **11:00** 到 **12:10**，共 **70** 分鐘。作答開始與結束請聽從監試委員的指示。

注意事項：

1. 所有試題均為四選一的選擇題，答錯不倒扣。
2. 試題中所附圖形，如有附上比例尺，以比例尺為依據作答；若無比例尺，則該圖僅作為參考，不代表實際大小。
3. 可利用題本中空白部分計算，切勿在答案卡上計算。
4. 依試場規則第八條規定，答案卡上不得書寫姓名座號，也不得做任何標記。故意汙損答案卡、損壞試題本，或在答案卡上顯示自己身分者，該科測驗不予計分。

作答方式：

請依照題意從四個選項中選出一個正確或最佳的答案，並用 **2B** 鉛筆在答案卡上相應的位置畫記，請務必將選項塗黑、塗滿。如果需要修改答案，請使用橡皮擦擦拭乾淨，重新塗黑答案。例如答案為 **B**，則將 **B** 選項塗黑、塗滿，即：**A** ● **C** **D**

以下為錯誤的畫記方式，可能導致電腦無法正確判讀。如：

- A** ● **B** **C** **D** — 未將選項塗滿
- A** **B** **C** **D** — 未將選項塗黑
- A** ● **C** **D** — 未擦拭乾淨
- A** ● **B** **C** **D** — 塗出選項外
- A** ● ● **C** **D** — 同時塗兩個選項

請聽到鈴（鐘）聲響後，於題本右上角方格內填寫准考證末兩碼，再翻頁作答

一、單題：(1 ~ 55 題)

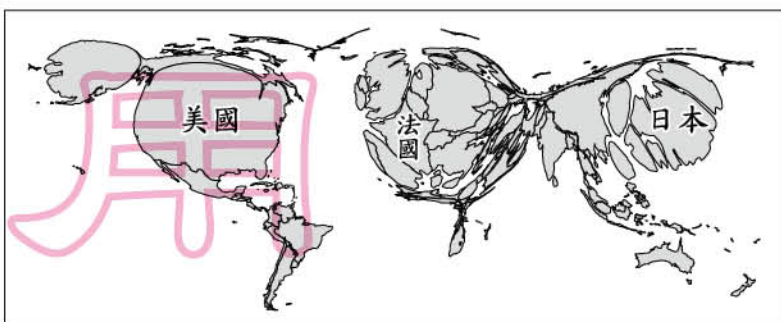
1. 某國因位處大西洋的火山地震帶，暖氣跟電力都可以仰賴地底下不斷冒出的天然地熱，此外，當地冰河的消融也使得原本就發達的水力發電更加充足，是一個幾乎可以不依賴石油的國家。上述所指的國家最可能是下列何者？

(A) 日本 (B) 冰島
(C) 芬蘭 (D) 紐西蘭

2. 義翔想要解釋中國主要河川流向多為由西向東流的原因，則他以下列何者來說明最適合？

(A) 中國年降水量分布圖
(B) 中國五大地形面積比例圖
(C) 中國地勢三級階梯示意圖
(D) 中國三大氣候類型分布圖

3. 圖(一)是世界銀行根據2005年各國GDP資料所繪製的地圖。GDP愈高的國家，在圖中的面積就會愈大；反之，則面積就會愈小。由該圖判斷，下列四個地區中，何者的GDP最低？



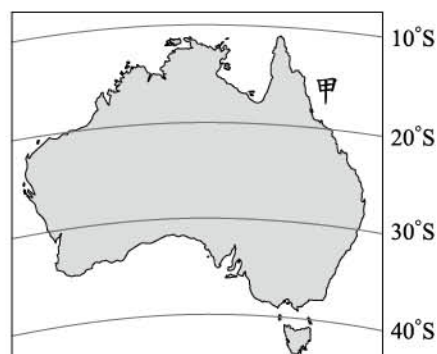
圖(一)

(A) 南亞 (B) 西非
(C) 南美 (D) 東南亞

4. 可燃冰是一種使用方便且汙染程度較低的新能源，許多國家都在積極探勘，繼美國和加拿大之後，中國也成功地具有廣大面積的凍土地區發現此種資源。上述中國所發現的可燃冰蘊藏區最可能在下列何處？

(A) 四川盆地 (B) 華北平原
(C) 青藏高原 (D) 雲貴高原

5. 1770年5月，英國探險家庫克船長駕船航行至圖(二)中的「甲」處，儘管小心翼翼，仍然發生了意外，還好僥倖逃過沉船的命運。不過，不是每一艘船都有這樣的好運氣，據估計曾有多達千艘的船隻在此處沉沒。上述所發生的意外最有可能是指下列何者？



圖(二)

(A) 誤觸礁石 (B) 撞擊冰山
(C) 遭西風強襲 (D) 毛利人攻擊

6. 歷史老師為增強教學效果，配合實際歷史發展設計了一系列通關遊戲。若同學對於中國的皇帝曾被尊稱為「天可汗」，且東亞的新羅等國也派遣留學生到中國學習文物制度的這段歷史深感興趣，則他最適合直接選擇下列哪一遊戲關卡？
- (A)三國鼎立
(B)大唐盛世
(C)五代十國
(D)蒙古帝國
7. 有一場演講，內容包含了英法百年戰爭、方言文學、德意志帝國的建立、希臘脫離土耳其獨立。依此判斷，這場演講的主題最可能是下列何者？
- (A)歐洲軍備武器的進步
(B)歐洲科學革命的誕生
(C)歐洲宗教改革的開端
(D)歐洲民族意識的發展
8. 民初巴黎和會期間，北京爆發大規模的學生示威遊行。造成此次學生運動的主因為何？
- (A)中國與列強重新訂定條約，被迫租借沿海港灣
(B)對外戰爭再度失利，必須賠償各國龐大的費用
(C)和會贊成袁世凱稱帝，中國重新恢復君主專制
(D)和會同意日本要求，由日繼承德國在山東特權
9. 星雅參加班上「西周風雲」話劇演出，飾演一位住在城中的貴族，若話劇內容須合於史實，下列何者最可能是他在劇中的生活情況？
- (A)擁有土地，有農民負責為他耕種
(B)乘坐馬車，到夜市採買日常用品
(C)主持科舉考試，掌握官員的任命權
(D)熟讀四書五經，輔佐君王治理國家
10. 圖(三)、圖(四)為西方歷史上某一古代文明所興建的重要建築，當時這些建築主要發揮何種功能？
- (A)公共實用
(B)榮耀上帝
(C)天文觀測
(D)軍事防衛



圖(三)



圖(四)

11. 現代社會中的「資訊」不只是一種訊息，更可能具有經濟價值或涉及他人名譽、隱私，因此人民開始要求政府應以制度對於這類資訊的流通與使用加以規範。上述訴求旨在達成下列哪一項目的？
- (A)保障個人基本權利
 - (B)推廣全民終身學習
 - (C)提高國民平均所得
 - (D)強化社會團體功能

12. 2009年8月8日，一場大水災使臺灣受到重創，許多民眾雖然分散在全國各地，卻透過網路串聯，自發性組團、募集救援物資前往災區救災；並匯集最新災情，通報救援物資的傳遞情況。下列何者最符合上述內容的意涵？
- (A)網際網路致使自然環境受破壞
 - (B)天然災害會造成生產方式改變
 - (C)科技發達擴大志願服務的參與
 - (D)各地民眾響應社區營造的推動

13. 哈蒂國發生外籍勞工的集體抗爭事件，以抗議生活管理的不當，為此主管機關首長宣布請辭下臺。上述首長的做法，最符合民主政治的哪一種內涵？
- (A)民意政治
 - (B)法治政治
 - (C)政黨政治
 - (D)責任政治

14. 圖(五)是一對父子的對話，根據他們的對話內容判斷，圖中的爸爸最可能是擔任下列哪一種公職人員？



圖(五)

15. 阿木在介紹國家的概念時提到：「國家享有獨立自主的地位，無須服從更高權威，儘管各國國力有所差距，但是國際地位應一律平等。因此，任何國家皆無權干涉他國內政。」根據上述內容判斷，他解釋的是下列何種國家構成要素？

- (A)主權
- (B)人民
- (C)政府
- (D)領土

16. 表(一)為 2009 年臺灣的人口相關資料，根據內政部的統計，該年出生率再創歷史新低，恐將影響國家未來的整體經濟發展。若僅利用表中的二項數據直接計算該年出生率，下列何種組合最合適？

表(一)

	項目	人數(人)
甲	人口總數	23,119,772
乙	育齡婦女(15-49 歲)人數	6,289,980
丙	幼年人口數	3,595,419
丁	新生嬰兒數	192,133

- (A)甲、丙
(B)甲、丁
(C)乙、丙
(D)乙、丁
17. 歐俄平原大部分位於溫帶大陸性氣候區，年溫差甚大，愈向東愈明顯，年雨量約 500 毫米，且自西向東遞減。上文所述該地區氣候在空間上的差異，最主要是受到下列哪一海域的影響所致？

- (A)太平洋
(B)大西洋
(C)北極海
(D)地中海
18. 圖(六)中的詩句摘錄自某首描述臺東的新詩，詩中關於「太陽」的敘述，主要是與當地哪一項環境特性有關？



圖(六)

19. 「淡水資源常被視為國家重要的資產。若位於河流上游的國家在其境內興建攔水設施或排放汙水，就可能影響下游地區鄰國的供水，因此，河流的控制權常成為國際紛爭的原因之一。」下列哪二個國家之間的關係最適合用來舉例說明上述的紛爭？

- (A)南韓、俄羅斯
(B)印度、孟加拉
(C)伊朗、以色列
(D)越南、馬來西亞

20. 圖(七)是南美洲部分地區的簡圖，圖中甲地較乙地人口密集、經濟繁榮，其主要的原由是下列何者？



圖(七)

- (A)交通較為便利
(B)水源較為充足
(C)礦產資源較多
(D)氣候條件較佳

21. 歷史老師要求同學以鄭氏治臺時期的史事或現象為主題，蒐集資料撰寫報告。下列何者最可能是此報告的題目？
- (A)皇民化運動面面觀
(B)羅漢腳的辛酸血淚史
(C)亞洲第一個民主共和國
(D)臺灣首座孔廟的興建始末
22. 偉齡讀歐洲史時，看到一段敘述如下：「這時期的知識分子相信自己正處於古典文明再生的時代，他們的生活重心不再只有上帝，也逐漸開始關注現世人生，強調人的價值和尊嚴。」這最可能是描述下列哪一時期的特色？
- (A)希臘化時代
(B)中古初期
(C)文藝復興
(D)啟蒙運動
23. 某一布告中提到：「……國際公法規定，若割讓土地無法被當地人民所接受，則該約便無法成立，外國已有前例可循。若各國能仗義執言，使臺灣歸還大清，臺民願以所有利益回報。」此布告最早可能出現於下列何時？
- (A)中法戰爭發生時
(B)《馬關條約》簽訂後
(C)《辛丑和約》簽訂時
(D)第一次世界大戰爆發後

表(二)

24. 表(二)為慧文對臺灣某一史前文化的概略整理。從表中內容判斷，此一史前文化應為下列何者？

年 代	距今 4500 ~ 6500 年
考古遺址	大多分布於西部河口與海岸
文化特徵	出土粗繩紋陶片、石斧等器物。推測居民以狩獵、漁撈、採集維生，可能種植根莖類作物。
重要意義	臺灣新石器時代早期文化的代表，在中國東南沿海也發現類型相似的文化。

- (A)長濱文化
(B)卑南文化
(C)大坌坑文化
(D)十三行文化

25. 在中國歷代帝王中，若以「北魏孝文帝」、「元世祖忽必烈」、「清聖祖康熙」三人為對象進行比較，下列哪一段比較結果是正確的？
- (A)他們都因為尊崇中國文化而全面徹底漢化
(B)他們都是外族在中國所建之政權的統治者
(C)他們都實施種族隔離政策以確保統治地位
(D)他們都曾遷移首都，以利掌控擴大的疆域

26. 近來，許多機構紛紛開設各種型態的進修課程，方便上班族充實自我，企業也樂見員工進修，並提供補助使員工更願意主動學習。上述趨勢最可能會直接帶來下列哪一種影響？
- (A)促進跨國企業合作
(B)推動科學技術革新
(C)健全學校教育制度
(D)提升生產要素素質
27. 14歲就讀國中的小剛，因夥同朋友持刀械向同學勒索財物，被少年警察隊逮捕，而後移送少年法庭。若經少年法庭調查，認為小剛受刑罰處分較為適當時，下列何者可對小剛的行為提起公訴？
- (A)法官
(B)律師
(C)警察
(D)檢察官
28. 阿喬初識三位國內朋友，下列是問起年齡時，他們分別的回應：
- 阿虎：「今年的選舉我剛好可以投票。」
大雄：「我要等到明年才能合法去速食店打工。」
小香：「明天起我就須負《刑法》的完全責任。」
- 依我國法律規定，根據上述內容中的法定年齡判斷，三人的年齡由大到小排序為何？
- (A)阿虎、大雄、小香
(B)小香、大雄、阿虎
(C)大雄、小香、阿虎
(D)阿虎、小香、大雄
29. 立法院通過《菸害防制法》的修正案，調高對菸品課徵的附加稅收，因此每包菸的價格將會調漲。某菸品供應商得知消息後，便聯合其他業者囤積現有的菸品，待價格提高後再售出，希望藉此機會大賺一筆。上述業者的做法違反下列何項法律的規定？
- (A)《刑法》
(B)《公平交易法》
(C)《消費者保護法》
(D)《社會秩序維護法》
30. 現代人可能因著作暢銷全球，而成為世界富豪；反觀古人寫的詩詞歌賦，雖常為人們歌詠傳頌，卻未必能賺得優渥的稿酬。上述古今的差異，最可能與近代民主國家立法保障下列哪一項人民的基本權利有關？
- (A)平等權
(B)訴訟權
(C)財產權
(D)參政權

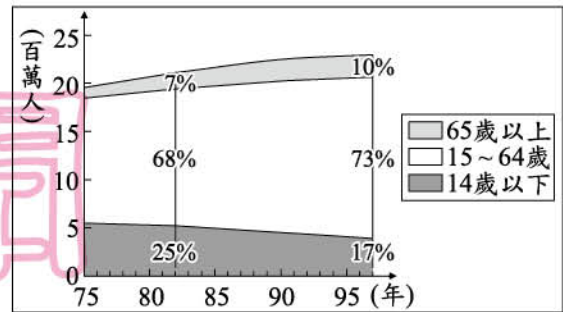
31. 哲民以秦嶺、淮河為中國南部與北部地區的分界，整理二區地理環境的差異，如表(三)所示，表中哪一項目的內容是正確的？

表(三)

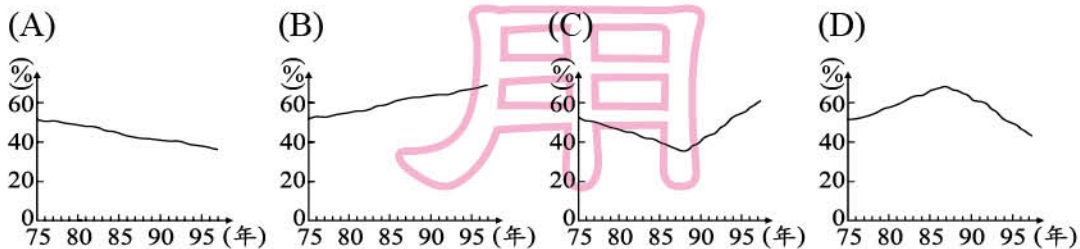
項目	南部地區	北部地區
年雨量	500mm 以上	500mm 以下
氣候類型	熱帶季風	副熱帶季風
河川流量變化	小	大
主要糧食作物	小麥	稻米

- (A)年雨量
(B)氣候類型
(C)河川流量變化
(D)主要糧食作物

32. 圖(八)為民國 75 至 97 年間，臺灣各年齡層的人口數和組成比例變遷圖，由圖中資訊推算，這段期間臺灣的扶養比變化情形應為下列何者？



圖(八)



33. 臺灣本島南北長約 390 公里，東西寬約 140 公里。如果要將臺灣本島繪製在長、寬皆為 500 公分的海報上，選擇下列哪一比例尺來繪製，可完整涵蓋臺灣本島且圖形面積最大？

- (A)1 : 10,000
(B)1 : 25,000
(C)1 : 100,000
(D)1 : 250,000

34. 1898 年，紫禁城內發生政變，慈禧太后再度出面掌政，到處搜捕被視為亂黨的改革者，原被裁撤的政府部門和各類官職也重新恢復，軍政大權則由太后信任的權貴控制。下列何者是造成此事件發生的原因？

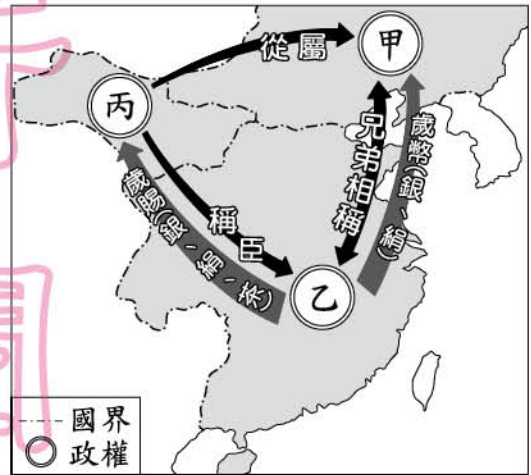
- (A)自強運動
(B)百日維新
(C)八國聯軍
(D)辛亥革命

35. 1950 年韓戰爆發，美國政府提供臺灣軍事及經濟援助，對當時物資匱乏、資金短缺的臺灣而言，無疑是一場及時雨。美國當時援助臺灣的根本原因最可能是下列何者？

- (A)支援對抗日本的盟國
(B)圍堵共產勢力的擴張
(C)轉移經濟大恐慌的焦點
(D)防範法西斯主義的蔓延

36. 有位學者指出：「茶、糖、樟腦的出口總值占全部出口總值之 94%，是造成此時期臺灣出超的主要因素。其中，茶和樟腦由於主要產於山區，不但促進臺灣邊際土地的利用，也加速了邊區的拓展。但拓展結果多少都侵犯了原住民原有的生活領域。」這段話最可能是討論下列何者？

- (A) 鄭氏的拓墾與海外貿易
- (B) 康熙將臺灣納入版圖的影響
- (C) 臺灣開港後的經濟、社會發展
- (D) 日本在臺推行「六三法」的結果



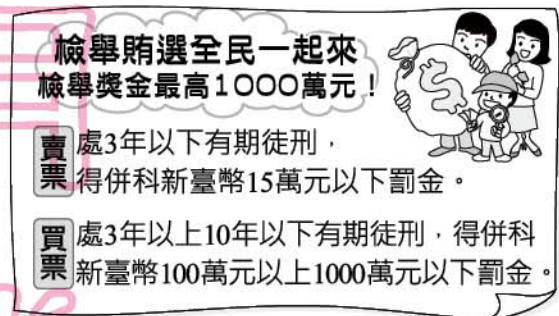
圖(九)

37. 圖(九)是中國某一時代的情勢，由圖片內容判斷，該圖的主題最可能為下列何者？

- (A) 春秋的尊王攘夷
- (B) 漢初的和親政策
- (C) 北宋的國際關係
- (D) 明末的對外貿易

38. 圖(十)是宣導反賄選的海報，根據圖中內容判斷，關於賄選行為的處罰，與下列何者所應負起的法律責任類型相同？

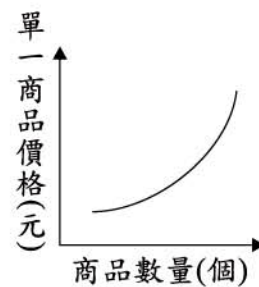
- (A) 拒絕償還積欠友人債務
- (B) 打球不慎打破鄰居窗戶
- (C) 無照駕駛違反交通法規
- (D) 破壞橋樑導致公共危險



圖(十)

39. 圖(十一)為某一經濟學概念的圖示，根據其內容判斷，下列何者最符合該圖的意涵？

- (A) 天氣轉涼，商家進行冷氣促銷活動
- (B) 電視機生產過剩，使產品價格下跌
- (C) 蒜頭價格高時，農民種植較多蒜頭
- (D) 颱風即將來襲，蔬果價格大幅上漲



圖(十一)

40. 圖(十二)是某則新聞的內容，但螢幕的一角被飲料杯擋住了。根據圖中內容推斷，被飲料杯擋住的文字最可能為下列何者？

- (A) 糾舉
- (B) 糾正
- (C) 彈劾
- (D) 審計



圖(十二)

41. 為保護野生動物、維護物種多樣性與自然生態之平衡，我國立法對於野生動物的保育做出規範。但原住民族基於傳統祭祀慶典，經主管機關同意後，可獵捕、宰殺野生動物。上述特別許可原住民族行為的規定，其理由最可能是下列何者？
- (A)保障原住民的環境權
(B)尊重不同族群的文化
(C)維持自然生態的平衡
(D)確保生物種類的多樣

42. 地理老師指定撰寫主題為「全球化」的報告，於是小名蒐集了相關的報導與資料。下列何項最不適合出現在他的報告內容中？
- (A)西亞地區油價的攀升，導致日本當地民生物價的上漲
(B)臺灣可以買到澳洲進口的牛肉和紐西蘭進口的奇異果
(C)位於新加坡的總公司可透過網路，與世界各地的分公司密切聯繫
(D)南亞發生大海嘯，造成斯里蘭卡、印尼等地人民生命財產的損失

43. 「元代即將滅亡的時候，政府為籌措龐大的軍費，大量印發紙幣因應，導致紙幣濫發無度，……。」上述政府作為所導致的經濟問題，若在今日持續發生，社會上最可能出現下列何種現象？
- (A)市場上大部分產品的出售價格將會愈來愈高
(B)受預期心理影響，民眾會減少當時的消費支出
(C)同一面額紙幣所能購買的商品數量將會愈來愈多
(D)人民所擁有的貨幣不斷地增加，生活水準日益提升

44. 表(四)為某工廠設置於甲、乙二地的成本分析，該工廠老闆根據此分析結果，決定將工廠設於乙地，以減少支出。若僅由表中資料判斷，下列何項區位要素是其設廠最主要的考量？

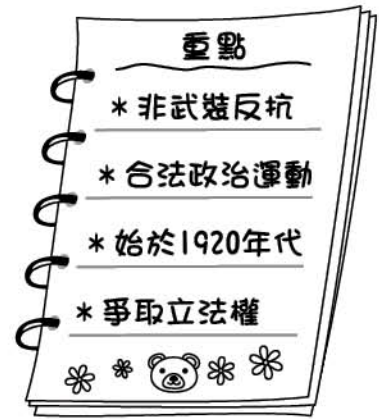
表(四)

成本地點	原料運輸	勞工	動力	產品運輸	其他
甲地	500	200	100	200	50
乙地	200	180	120	300	30

單位：萬元

- (A)原料
(B)市場
(C)勞工
(D)動力
45. 「1602年，荷蘭聯合東印度公司成立，擁有荷蘭當局所給予對東方貿易的特權。該公司曾以印尼為據點，經營南洋、東亞貿易將近二百年。」上述內容最適合用來說明下列何者？
- (A)海外拓殖的發展
(B)法國大革命的影響
(C)伊斯蘭世界的擴張
(D)西歐封建制度的形成

46. 圖(十三)是小蓮在歷史課堂上所做的筆記，由內容推斷，這堂課老師講述的主題應是下列何者？
- (A)霧社事件
 (B)噍吧哖事件
 (C)臺灣民主國
 (D)臺灣議會設置請願運動



圖(十三)

47. 右列是甲、乙二國在國際貿易競爭現況的分析，根據內容判斷，文中所指不利乙國產品競爭力的原因，最可能是下列何者？
- (A)生產要素不足
 (B)商品售價較高
 (C)區域統合瓦解
 (D)勞動所得增加

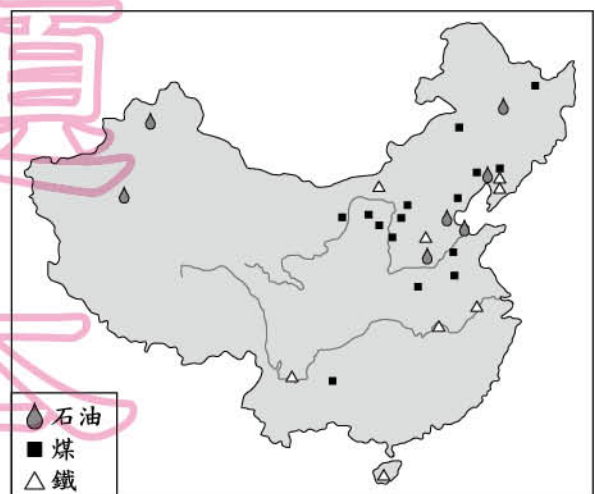
甲國與乙國所出口的產品性質與成本均非常相近，但甲國即將加入某關稅同盟，而乙國卻因不是會員，產品仍須繳納高額關稅才得以進入該關稅同盟的市場，這個因素對乙國產品的競爭力將有很大的衝擊。

48. 二十世紀末，某學者將全球國家分成甲、乙、丙三類，表(五)是這三類國家在不同項目中所占的比例。根據表中資料判斷，下列何者最可能是各國應共同合作解決的問題？
- (A)人口總數過多
 (B)國際貿易障礙
 (C)貧富差距懸殊
 (D)資訊倫理缺乏

表(五)

國家類別	甲	乙	丙
占全球總人口 (%)	20.0	20.0	60.0
占全球總收入 (%)	86.0	1.0	13.0
占全球出口總值 (%)	82.0	1.0	17.0
網路普及率 (%)	93.0	0.2	6.8

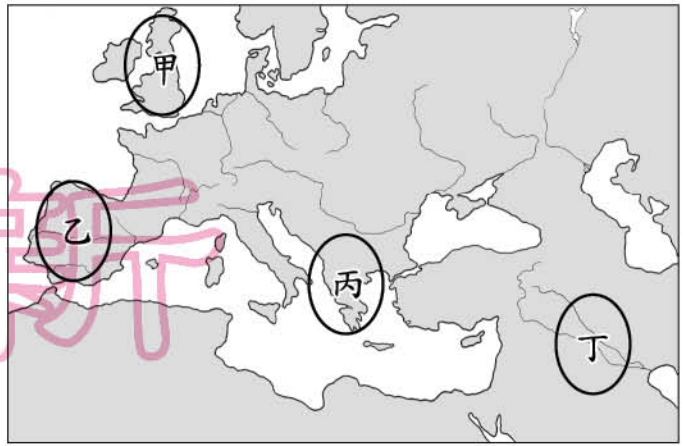
49. 圖(十四)為中國煤、鐵、石油的分布狀況。下列中國的地理現象中，何者與此空間分布的關係最密切？
- (A)中華文化發源自黃河流域
 (B)北部交通運輸以陸運為主
 (C)北部的重工業較南部發達
 (D)經濟特區皆設於東南沿海



圖(十四)

50. 十八世紀末以來，工業革命逐漸向外傳布，影響遍及全世界。當時最早是以圖(十五)何處為中心向外傳播？

- (A)甲
(B)乙
(C)丙
(D)丁



圖(十五)

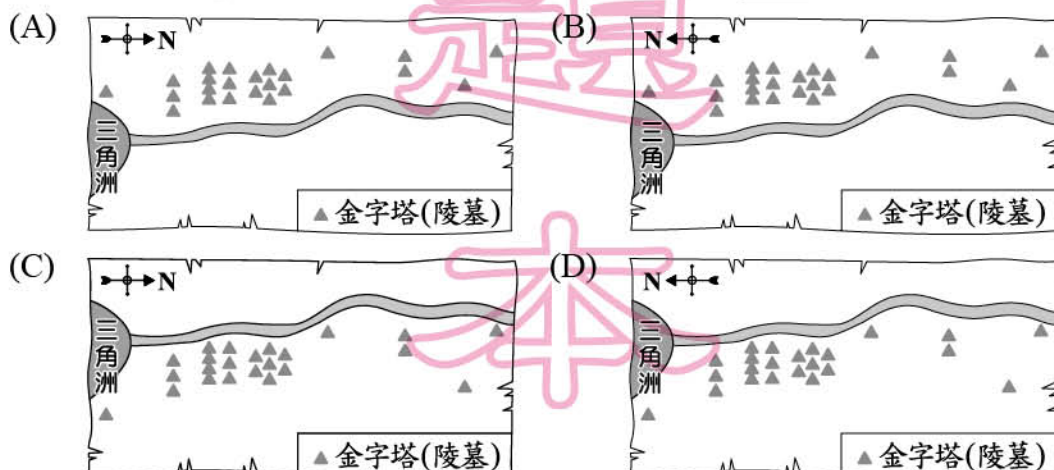
51. 「某國的農業經營模式，以前是大規模機械化耕作、大量使用農藥和化肥來種植單一經濟作物的商業性農業。但現在部分地區已逐漸轉變成小規模人力和獸力耕作、使用生物有機肥料來改善土壤品質，並種植多樣化作物的生態農業。」根據上文，下列對該國的描述何者最適切？

- (A)該國農產品更依賴他國供應
(B)土地資源趨向永續利用發展
(C)整體經濟更易受國際市場影響
(D)農產量急遽增加並可大量外銷

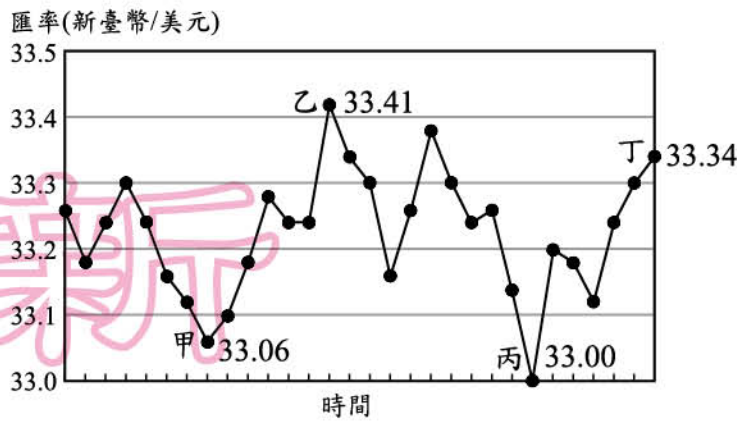
52. 一本歷史書中對某帝國有以下描述：「這帝國盛行伊斯蘭教，商人擁有能在逆風中航行的商船，從非洲運來黑奴，從印度輸入米、棉及蔗糖，從唐帝國進口絲綢，首都巴格達因此成為當時世界重要的大都會。」此帝國最可能為下列何者？

- (A)拜占庭帝國 (B)阿拉伯帝國
(C)神聖羅馬帝國 (D)鄂圖曼土耳其帝國

53. 「相傳在古埃及的世界裡，以尼羅河為界線畫分為東、西二個部分，城市多位在尼羅河東岸，而亡者都埋葬在尼羅河西岸，一如日出與日落的方位，象徵生命的開始與結束。」下列哪一張示意圖最符合上文對古埃及人土地利用的描述？



54. 吉祥公司定期以新臺幣兌換美元後，向美國進口價值一千美元的原料，圖(十六)是該公司的兌換紀錄，圖中顯示在不同時間點以1美元兌換新臺幣的比率。僅根據圖中內容判斷，若以新臺幣為衡量單位，甲、乙、丙、丁四個時間點，何者的進貨成本最低？



圖(十六)

- (A)甲 (B)乙
(C)丙 (D)丁
55. 「學校師生要向日本天皇及當時在位的滿皇帝遙拜，唱國歌，背誦溥儀的詔書，且學生必須學習日語，並被灌輸『日滿一體』的思想。」上述情況最可能發生於下列何時何地？
- (A)1915 年的臺北
(B)1920 年的香港
(C)1940 年的瀋陽
(D)1945 年的重慶

二、題組：(56 ~ 63 題)

閱讀下列選文，回答第 56 至 58 題：

臺南沿海有大片的海埔地及許多離岸沙洲，不但是臺灣早期開發的重要地區，也擁有二處國際級溼地，因而政府於數年前提出成立「台江黑水溝國家公園」的規畫案。此國家公園的成立，不僅可保育生態環境、保存重要的歷史資產，同時更可以利用當地昔日的傳統產業來發展具地方特色的生態旅遊，是一座兼具自然、歷史、產業三大特色的國家公園。

56. 根據文中描述，下列何者是在此國家公園中最常見到的自然景觀？
- (A)岬角 (B)潟湖
(C)珊瑚礁 (D)沖積扇
57. 根據文中描述，下列何者最可能是此國家公園保存的重要歷史資產？
- (A)西班牙興建的西式洋樓 (B)漢人渡海移民文化史蹟
(C)全臺灣最早的鐵路系統 (D)清領前期的曹公圳遺址
58. 文中提及當地昔日的傳統產業，最可能是指下列何者？
- (A)水泥業 (B)採煤業
(C)製茶業 (D)曬鹽業

閱讀下列選文，回答第 59 至 60 題：

政府能夠代表國家行使統治權，是因為它經由合法的方式，獲得大多數人民的授權，而被統治的人民為了本身利益也願意與政府合作。若政府沒有獲得多數人民的授權，也不代表多數人民的利益，那麼人民應撤回自願的合作，絕不履行所謂的國民義務。但要嚴格遵守非暴力的原則，不可使用暴力反抗，要忍受暴力的打擊，自我犧牲，但絕不妥協，絕不服從，誓死反抗。

59. 上文最可能是下列哪一位政治人物所提出的訴求？

- (A)甘地 (B)林肯
(C)孫中山 (D)加富爾

60. 此文主要反映出下列何種理念？

- (A)開明專制 (B)君權神授
(C)極權政治 (D)主權在民

閱讀下列選文，回答第 61 至 63 題：

小文去澎湖旅行三天，每天都在日記中寫下當天的見聞，其部分內容如表(六)：

8月11日	……到達澎湖後，先到叔叔開的土產店拜訪。聽叔叔說他跟原料商有些契約上的金錢糾紛，叔叔擔心貨品不能依約定時間送到，會對生意造成很大的影響，我也跟著擔心起來。
8月12日	……石滬原是捕魚的陷阱，雖然現在這種捕魚方式已日漸沒落，但雙心石滬讓我們看到了它全新的價值，它不僅仍能為漁民帶來漁獲，還意外地為附近商家帶來觀光人潮。
8月13日	……旅程的最後一站，壯麗的玄武岩地形景觀讓人讚嘆不已，能將這天然藝術品的影像刻印在腦海中，更讓我有不虛此行的感覺。

61. 小文的叔叔可先採用下列何種方式處理他所遇到的糾紛？

- (A)向調解委員會聲請調解
(B)向高等法院提起民事訴訟
(C)向公平交易委員會提出訴願
(D)向高等行政法院提起行政訴訟

62. 表(六)中關於雙心石滬的敘述，與下列何者所呈現的經濟學概念最相似？

- (A)阿凡種樹防風，除保護農作還能綠化社區環境
(B)相較於南投縣，澎湖縣更適合從事海產加工業
(C)若行程只有一天，去了七美嶼就不能去吉貝嶼
(D)為維護沙灘的整潔，政府應向遊客徵收清潔費

63. 旅程最後一站所見到的景觀，其地形成因與下列何者最相似？

- (A)綠島 (B)琉球嶼 (C)東沙島 (D)金門列島