

--	--

101

國民中學學生基本學力測驗

社會科題本

請不要翻到次頁！

讀完本頁的說明，聽從監試委員的指示才開始作答！

※請先確認你的答案卡、准考證與座位號碼是否一致無誤。

請閱讀以下測驗作答說明：

測驗說明：

這是國民中學學生基本學力測驗社會科題本，題本採雙面印刷，共 **13 頁**，有 **63 題** 選擇題，每題都只有 **一個** 正確或最佳的答案。測驗時間從 **11:00** 到 **12:10**，共 **70 分鐘**。作答開始與結束請聽從監試委員的指示。

注意事項：

1. 所有試題均為四選一的選擇題，答錯不倒扣。
2. 試題中所附圖形，如有附上比例尺，以比例尺為依據作答；若無比例尺，則該圖僅作為參考，不代表實際大小。
3. 可利用題本中空白部分計算，切勿在答案卡上計算。
4. 依試場規則第十條規定，答案卡上不得書寫姓名座號，也不得做任何標記。故意汙損答案卡、損壞試題本，或在答案卡上顯示自己身分者，該科測驗不予計分。

作答方式：

請依照題意從四個選項中選出一個正確或最佳的答案，並用 **2B** 鉛筆在答案卡上相應的位置畫記，請務必將選項塗黑、塗滿。如果需要修改答案，請使用橡皮擦擦拭乾淨，重新塗黑答案。例如答案為 **B**，則將 **B** 選項塗黑、塗滿，即：**A ● C D**

以下為錯誤的畫記方式，可能導致電腦無法正確判讀。如：

- A ● B ○ C ○ D — 未將選項塗滿
- A ○ B ○ C ○ D — 未將選項塗黑
- A ● ● C ○ D — 未擦拭乾淨
- A ● B ○ C ○ D — 塗出選項外
- A ● ● ● D — 同時塗兩個選項

請聽到鈴（鐘）聲響後，於題本右上角方格內填寫准考證末兩碼，再翻頁作答

一、單題：(1~55 題)

1. 臺灣曾有「香蕉王國」的美稱，但隨著許多熱帶國家大規模生產的低價產品進入國際市場，臺灣的香蕉出口逐漸喪失優勢，而其他的水果也面臨相似的困境。考量我國農業的現況，下列何者是增加臺灣水果競爭力最為可行且成效最大的策略？

- (A) 農業技術研發，提升產品品質
(B) 採取機械耕作，提高生產效率
(C) 擴大種植面積，降低生產成本
(D) 限制國外進口，保障農民權益

表(一)

國道編號	長度(公里)
1	372.7
2	20.4
3	431.5
4	17.1
5	54.3
6	37.6
8	15.5
10	33.8

2. 臺灣國道的編號原則：縱向是以奇數編號，橫向是以偶數編號。表(一)是臺灣國道通車里程統計一覽表，其中有二條國道特別長的原因，與下列哪一臺灣環境特色的關係最為密切？

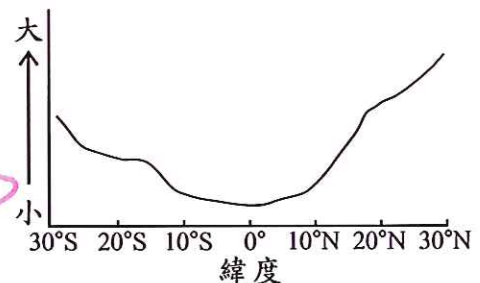
- (A) 國土南北狹長 (B) 河川多東西向
(C) 西部平原廣闊 (D) 山脈地勢高聳

3. 在每年的7月至10月間，菲律賓常受到一種當地稱為「碧瑤」的天氣系統影響。此種系統是由廣大海面上的熱帶性低氣壓發展而成，為當地帶來豐沛的降雨。根據上述資訊判斷，「碧瑤」應是指下列何者？

- (A) 梅雨 (B) 颱風
(C) 龍捲風 (D) 沙塵暴

4. 由於赤道橫貫非洲中部，故非洲的氣候大致呈現南北對稱的特性，圖(一)即為非洲某氣候要素統計數值隨緯度變化的情形，圖中縱軸應代表下列何者？

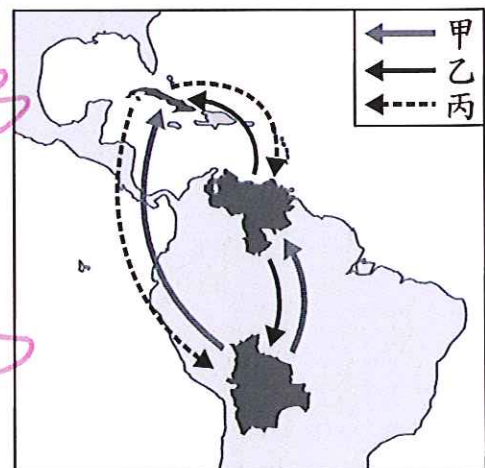
- (A) 年雨量 (B) 年溫差
(C) 一月月均溫 (D) 年降雨日數



圖(一)

5. 玻利維亞、古巴和委內瑞拉為了減少對美國的貿易依賴，於是共同簽署經濟結盟的協議，三國間取消部分關稅，並由古巴提供醫療及教育資源，其他二國則分別提供石油以及農產品，實現生產互補的效益，以促進彼此的共同發展。圖(二)是此三國間的資源交流流向圖，圖中甲、乙、丙依序代表何種資源？

- (A) 石油、醫療及教育、農產品
(B) 石油、農產品、醫療及教育
(C) 農產品、醫療及教育、石油
(D) 農產品、石油、醫療及教育



圖(二)

6. 表(二)為臺灣在不同政權統治下官方的重要教育措施，若按其施行的時間先後排列，下列何者正確？

(A)甲乙丙
(B)乙甲丙
(C)丙甲乙
(D)甲丙乙

表(二)

教育措施
甲、設西學堂、電報學堂
乙、建立公學校及小學校
丙、推行九年國民義務教育

7. 以下是某時期歐洲的情況：「由於常受到政府的迫害，基督徒不敢公開集會，所以他們就偷偷地聚會，討論耶穌的教誨、分發聖餐，並相互鼓勵。這情形持續幾個世紀後，基督教終於得到官方承認，獲得合法的地位，後來甚至成為國教。」該時期最可能是下列何者？

(A)古典希臘 (B)羅馬帝國
(C)中古西歐 (D)文藝復興

8. 圖(三)為歷史老師在黑板上所寫的重點，依內容推斷，下列何者最可能是她講述的主題？

(A)立憲運動的本質
(B)戊戌變法的特色
(C)新文化運動的內涵
(D)文化大革命的目標

- 提倡白話文，推動國民文學
- 傳播民主、科學精神
- 追求人的獨立自主，提倡女性解放
- 批判儒家學說



圖(三)

9. 「戰勝的各國認為啟蒙運動的自由理論是一切革命動亂的根源，也是拿破崙得以宰制歐洲的原因，所以他們要抵制革命成果，並恢復之前歐洲的政治秩序。」上文是描述下列哪一會議召開的背景？

(A)巴黎和會
(B)開羅會議
(C)維也納會議
(D)雅爾達會議

10. 玉芳撰寫中國史報告，圖(四)為報告的目次，依內容判斷，她報告的題目最可能為下列何者？

(A)戰國爭雄
(B)大漢天下
(C)三國鼎立
(D)隋唐盛世

目次	
一、軍事行動	1
● 北擊匈奴	2
● 南討百越	3
二、外交措施	5
● 出使西域	6
三、文化成就	8
● 《史記》成書	10
四、科技發展	11
● 地動儀的發明	13
● 蔡倫造紙	15

圖(四)

11. 手機的發明為人類帶來便利，但是為了交通安全，政府立法禁止開車時以手持的方式使用手機；為了維護考場的秩序，國中基測也禁止考生隨身攜帶手機參加考試。下列何者最能說明上述現象？
- (A)文化傳承影響價值觀念 (B)制度變革影響文化傳承
(C)器物改變影響制度變革 (D)價值觀念影響器物改變

12. 某國研究人員以「生活中不能缺乏的東西」為主題，對青少年進行調查，表(三)為調查結果的部分內容。若僅根據表中內容判斷，該表最可能是在凸顯下列何者對於該國青少年社會化的影響力？
- (A)家庭 (B)學校
(C)同儕團體 (D)傳播媒體

表(三)

項目	用途	比例 (%)
網路	接收、查詢資訊	29
	與親朋好友聯絡	8
電視	接收資訊	23
手機	接收、查詢資訊	9
	與家人、好友聯絡	12

13. 右列報導是某報紙刊載的部分內容，據此判斷，其最可能在探討下列何者之間的關係？
- (A)行銷策略與降低成本
(B)科技運用與創造利潤
(C)經營自由與市場價格
(D)商業利益與社會責任

……該公司為提高銷售量，將網路上未經查證的消息直接刊登於雜誌上，並大肆渲染，使雜誌銷售量大增。事後證實根本沒有這回事，然而此舉不但混淆社會視聽，也造成當事人極大的困擾。

14. 表(四)是我國辦理立法委員選舉時四位國民的相關資料。根據資料判斷，下列哪一個人最可能在本次選舉中具有投票資格？
- (A)楊小華
(B)李大春
(C)王中旗
(D)吳美滿

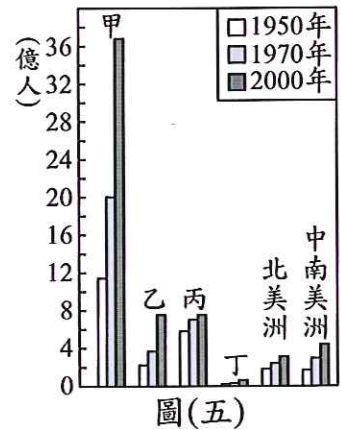
表(四)

姓名	年齡 (歲)	在選區設籍時間	備註
楊小華	17	七個月	實施感化教育中
李大春	25	三個月	曾有竊盜罪前科
王中旗	42	五個月	長年在海外經商
吳美滿	65	九個月	受法院監護宣告

15. 陳師傅在麵包大賽奪得冠軍後自行開店，許多民眾因媒體報導而指名訂購冠軍麵包。雖然冠軍麵包的製作過程並不費時，不過陳師傅堅持麵包必須由他親手製作，因此顧客們常要等候數天才能拿到。下列關於上文的敘述何者正確？
- (A)市場上冠軍麵包的供給量小於需求量
(B)陳師傅開的麵包店屬於生產要素市場
(C)冠軍麵包的價格將會因產量增加而下降
(D)民眾搶購冠軍麵包的現象符合需求法則

16. 自 2002 年以來，前往澳洲旅遊的中東遊客大幅增加，當地的旅遊業者很快意識到他們的需求，除了在飯店及公寓標示箭頭，指向阿拉伯半島上的麥加，也在很多遊樂園中興建禮拜的場所，以利伊斯蘭教教徒朝向聖城膜拜。根據二地的相對位置判斷，這些箭頭的方向應該指向何處？
- (A) 東北方 (B) 東南方
(C) 西北方 (D) 西南方

17. 圖(五)是六大洲在不同年分的人口數統計圖，根據變化趨勢判斷，圖中丙應是代表下列何者？
- (A) 歐洲
(B) 亞洲
(C) 非洲
(D) 大洋洲

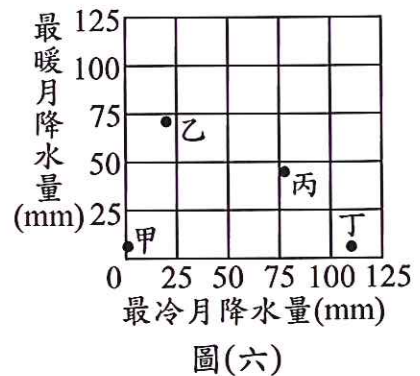


18. 表(五)為中國 118 個資源型城市的分類統計表，這些城市傳統上以礦產、森林等自然資源開採、加工為主導產業。表中甲地區應是指下列何者？
- (A) 華南
(B) 華中
(C) 華北
(D) 東北

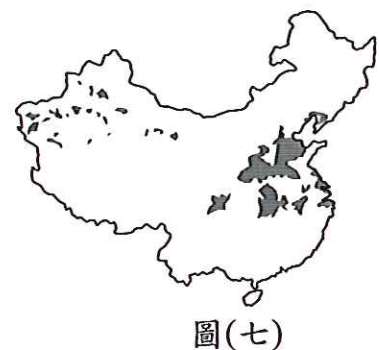
表(五)

城市資源類型	全國總數量(個)	甲地區數量(個)	甲地區占全國百分比(%)
煤炭	63	9	14
森林工業	21	17	81
冶金工業	20	2	10
石油	9	2	22
其他	5	0	0

19. 有四個位於溫帶氣候區的城市，分別為海洋性氣候、大陸性氣候、地中海型氣候和沙漠氣候，若將其最暖月和最冷月的降水量標在坐標圖上，可以得到圖(六)。圖中哪一城市為溫帶大陸性氣候？
- (A) 甲 (B) 乙
(C) 丙 (D) 丁



20. 圖(七)的灰色區塊代表中國某種經濟作物的主要產區，根據其分布區域判斷，下列何者為該作物生長所需要的環境條件？
- (A) 高溫多雨，生長季長
(B) 暖溼多霧，排水良好
(C) 年雨量少於 250 毫米，日溫差大
(D) 夏季高溫且日照充足，秋季乾涼



21. 圖(八)是曉華在書上看到的漫畫：



圖(八)

上圖最可能是描繪臺灣哪一史前文化？

- (A)長濱文化 (B)圓山文化
(C)十三行文化 (D)大盆坑文化

22. 「清末，朝廷向列強宣戰，當時部分地方督撫卻與上海各國領事協議：『作為省的最高長官，我們將維護外國人生命與財產的安全，並在管轄區內鎮壓亂民，各國應約束其士兵的行動。』」上述情況的出現與下列何者關係最密切？

- (A)保路運動
(B)義和團事變
(C)同盟會成立
(D)甲午戰爭爆發

保路運動：亦稱為保路風潮。

23. 圖(九)是惠群對臺灣某一歷史事件的研究整理，根據圖中資訊判斷，此一歷史事件最可能為下列何者？

- (A)霧社事件
(B)苗栗事件
(C)噶吧哖事件
(D)牡丹社事件

事件特色：

- 1、武裝抗日運動
- 2、具有濃厚宗教色彩

主要參考資料：

- 1、日治時期的報紙
- 2、地方人士的訪談
- 3、臺南玉井、高雄甲仙等地日治時期的戶口普查記錄

圖(九)

24. 群芳介紹一位中國歷史人物：「他認為變法改革是解決當時財政問題及邊防危機的主要途徑，於是他丈量田地、改變賦役制度、規定用銀繳納稅款，並重用抗倭寇的名將主持西北邊防。」這位人物應是下列何人？

- (A)商鞅 (B)王莽
(C)王安石 (D)張居正

25. 有一個人對當時世界局勢的觀點如下：「美國透過馬歇爾計畫和柏林空運行動，把錢送到歐洲，……此時共產黨正在全世界蔓延。」上文所指的時代背景為何？

- (A)美、蘇冷戰
(B)珍珠港事變爆發
(C)《門羅宣言》發表
(D)獨立國家國協成立

26. 現代民主國家以公民投票來直接展現人民的意志，是落實主權在民的方式之一。依我國現行法律規定，下列何者必須經上述方式複決通過後，才能公布生效？
- (A)緊急命令 (B)總統彈劾案
(C)《憲法》修正案 (D)《刑法》修正案

27. 表(六)是某國中在本月規畫的工作內容。根據表中內容判斷，下列何者最可能為該校本月學生學習活動的重點？

表(六)

工作項目	實施內容
海報競賽	主題：人權保障與人道關懷
校外參訪	參觀社區附近的縣議會
學生自治活動	1. 制定班級公約 2. 舉辦學生代表選舉活動

- (A)建立良好人際關係
(B)提高社區參與程度
(C)彰顯倫理道德觀念
(D)培養民主法治素養

28. 小強常在上課打瞌睡，老師在課後關切他的學習狀況，他才說出因爸爸常在喝酒後，將熟睡的他叫醒，並訓話一整夜，讓他精神上飽受煎熬。依我國法律規定，老師可採取下列何種作法來幫助小強？

- (A)建議小強向地方法院聲請保護令
(B)輔導小強向法院聲請受監護宣告
(C)請少年法院對小強施以保護處分
(D)替小強向地方法院提出刑事告訴

29. 小林與文雄想用陶土捏製碗盤，表(七)為他們所能做出的數量，若小林在製作陶碗上具有絕對利益，但依比較利益法則，他卻負責生產盤子。根據上述內容判斷，表(七)中的甲、乙最可能為下列何者？

表(七)

	陶碗	盤子
小林	6	乙
文雄	甲	3

單位：個/小時

- (A)甲：7，乙：5
(B)甲：7，乙：2
(C)甲：5，乙：5
(D)甲：5，乙：2

30. 某位高中生因被拍到穿著校服踩熄煙蒂的畫面，而遭相關單位以違反《菸害防制法》之規定開罰。若上述受罰學生覺得不服，他依法所能進行的權利救濟方式，其類型與下列何者相同？

- (A)遭勒令歇業的老闆
(B)遭鄰居告發的住戶
(C)遭歹徒攻擊的店員
(D)遭欠債不還的債主

31. 圖(十)中的甲區常可見到頂部地勢平坦，周圍邊坡陡峭的地形，如圖中照片所示。該區邊坡陡峭的崎嶇地形，其成因應為下列何者？

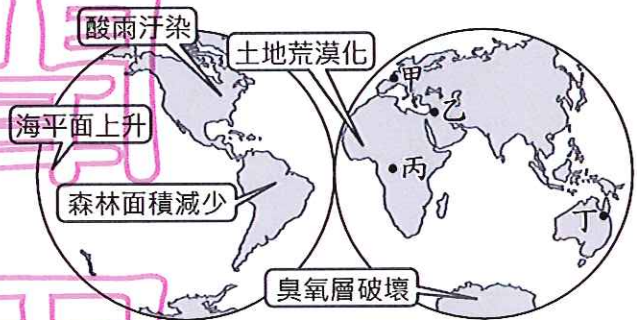
- (A)板塊擠壓
(B)流水切割
(C)強風吹蝕
(D)斷層陷落



圖(十)

32. 圖(十一)是各地因人為活動而引發的主要環境議題，若想加上「水資源爭奪危機」的標示，則圖中甲、乙、丙、丁哪一地區最為適合？

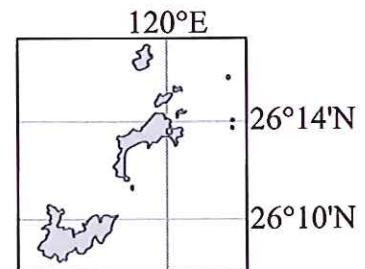
- (A)甲
(B)乙
(C)丙
(D)丁



圖(十一)

33. 臺灣本島所在的位置約為 120°E ~ 122°E 及 22°N ~ 25°N 。圖(十二)為臺灣地區某離島的位置圖，該離島的成因為下列何者？

- (A)海底火山噴發
(B)河流搬運泥沙堆積
(C)海底珊瑚礁露出海面
(D)中國福建丘陵沒入海中



圖(十二)

34. 清朝末年，沈葆楨奉命來臺處理日軍侵臺事宜，並積極在臺灣從事建設。下列何者是當時他的作為？

- (A)完成八堡圳與瑠公圳，提高農業生產量
(B)修建多座西式砲臺，增強臺灣海防力量
(C)加開通商口岸，便利臺灣茶葉與樟腦出口
(D)規畫及興修縱貫鐵路，加強南北交通聯繫

35. 有本臺灣史分析某國占領臺灣的目的，如表(八)所示。根據表中內容判斷，「某國」最可能是下列何者？

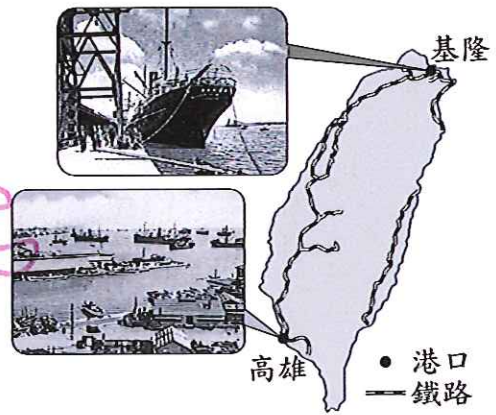
- (A)荷蘭 (B)英國
(C)法國 (D)西班牙

表(八)

政治軍事	對抗當時占領南臺灣的歐洲國家，並確保馬尼拉的安全。
經濟	希望維持與中、日兩國貿易的順暢，並吸引漢人和日本人至北臺灣貿易。
宗教	推展海外傳教事業。

36. 圖(十三)描繪臺灣某時期官方的交通建設，根據內容判斷，該時期最可能是下列何者？
- (A) 荷蘭統治時期
 (B) 鄭氏統治時期
 (C) 清朝統治時期
 (D) 日本統治時期

新



圖(十三)

37. 慧慧在一本介紹魏晉南北朝歷史的書中，看到一幅插圖如圖(十四)。這幅圖最可能是在說明下列哪一段史實？
- (A) 蜀漢的建立
 (B) 北魏的漢化
 (C) 東晉的南遷
 (D) 西晉的封建

用



圖(十四)

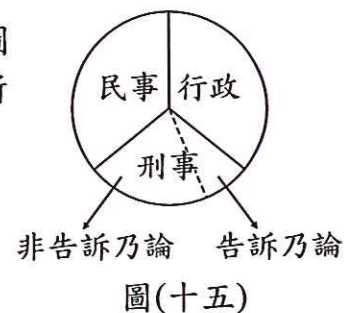
38. 某次同學會中，大家聊到曾發生在小薰身上的事件，如表(九)所示。若僅依年齡判斷，這四件事發生的先後次序應為下列何者？

表(九)

事件	內容
甲	和男友辦理結婚登記，但戶政人員卻說依法她的年齡僅能訂婚。
乙	同學給她的生日賀卡寫著：「恭喜妳不再受《兒童及少年福利法》保護。」
丙	跑去應徵工讀生，老闆卻說她還差幾天才符合童工的資格。
丁	遇到支持的候選人拜票，她回應說：「我會把人生中的第一票投給你。」

📖 《兒童及少年福利法》：現已修改為《兒童及少年福利與權益保障法》。

39. 小光將可進行權利救濟的事件分為三類，並將其示意圖繪製成圖(十五)，若他將「可經由鄉、鎮、市、區公所調解委員會調解的事件」，以塗色的方式標記在圖上，則此圖應呈現如下列何者？



- (A) (B) (C) (D)
-

40. 四位同學在課堂上扮演我國的公職人員，根據表(十)內各角色的職權判斷，下列何者的臺詞與角色相符？

- (A)曉芳
(B)以娟
(C)大華
(D)義倫

表(十)

姓名	角色	臺詞
曉芳	檢察官	嫌犯罪證不足，我決定做出不起訴處分。
以娟	大法官	犯人罪行重大，我做出無期徒刑的判決。
大華	監察委員	國家元首違法失職，我將對他提出彈劾。
義倫	省諮議員	省政府將提報預算，我會為民嚴格審查。

41. 下列是上海世界博覽會臺灣館主題曲的部分內容：「……美濃紙傘怎麼摺，三義木雕怎麼刻，這塊土地上有很多很多的選擇，仔細看著八家將的妝獨特……。」上述歌詞內容最主要在描述臺灣的哪一項特色？

- (A)宗教信仰多元 (B)國際交流頻繁
(C)文化資產豐富 (D)經貿活動興盛

42. 表(十一)是歐洲某時期人口的估算值，造成表中「甲」期間人口數量變化的主要因素應是下列何者？

- (A)十字軍東征，群眾響應前往西亞
(B)黑死病流行，大量人口感染死亡
(C)工業革命後，壯年人口紛紛外移
(D)宗教改革後，教派對抗戰爭頻繁

表(十一)

時間	人口數(人)
1200年	5,900萬
1300年	7,000萬
1347年	7,500萬
1352年	5,000萬

甲 {

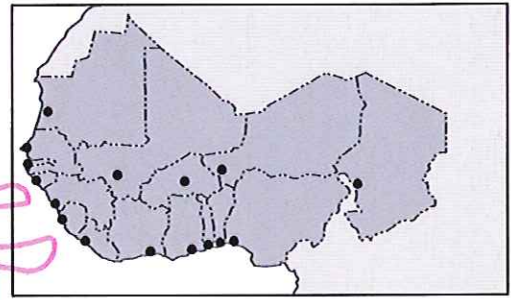
43. 清末推行自強運動，總理各國事務衙門是當時成立的第一個新機構。該機構最初設立的目的最可能為下列何者？

- (A)裁決司法案件
(B)籌辦議會政治
(C)辦理外交事宜
(D)籠絡境內民族

44. 小納說明某一政治概念時指出：「古代有篡位取得君權者，近代則有利用政變取得政權的統治者。若上述事件發生在今日，以現代民主政治運作的角度觀察，這些政治權力的來源其實都不具合法性。」小納的說法是因為上述二種政權的來源皆缺乏哪一條件？

- (A)政黨政治的發展
(B)人民自由的保障
(C)權責相符的責任政治
(D)公平競爭的選舉過程

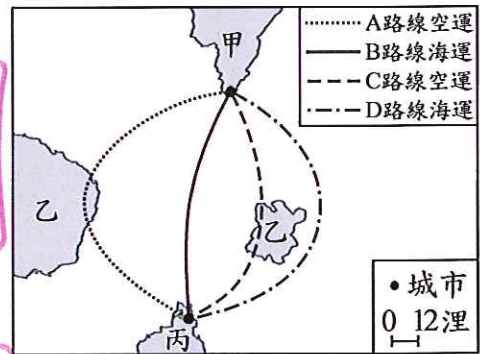
45. 圖(十六)是西非各國最大都市的分布情形，該分布特色與殖民時期為輸出當地礦產和熱帶栽培業農產品有關。下列哪一地區多數國家的最大都市，其發展歷程及分布特色與西非最為類似？



圖(十六)

- (A)西歐 (B)北美
(C)東北亞 (D)東南亞

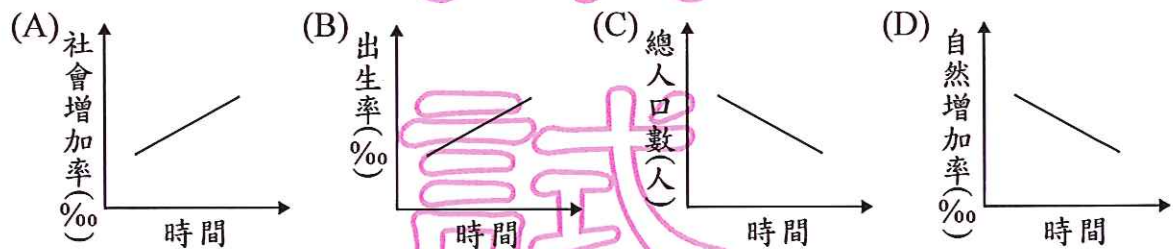
46. 圖(十七)為甲、丙二國間四種可供選擇的運輸路線圖，若甲國士兵欲前往丙國進行軍事訓練，甲國選擇哪一條運輸路線最不會引起甲、乙二國的爭端？



圖(十七)

- (A) A 路線
(B) B 路線
(C) C 路線
(D) D 路線

47. 臺灣人口政策的口號由「兩個孩子恰恰好，一個不嫌少」轉變為「兩個孩子恰恰好，三個更熱鬧」。下列哪一個圖形最能用來說明上述口號轉變的原因？



48. 一位學者提出某國際組織的失敗原因：
- (1)會員國並未包括所有重要的國家：發起國美國未加入。
 - (2)每一會員國權利平等，各有否決權，所以運作效率不彰。
 - (3)組織缺乏武力來制裁國際侵略行為。
- 由上述內容判斷，此組織最可能是下列何者？
- (A)聯合國 (B)國際聯盟
(C)華沙公約組織 (D)北大西洋公約組織

49. 老師請同學以十九世紀英國議會政治為主題進行報告，下列為四位同學報告內容的摘要，其中哪一位同學的報告符合史實？

- (A)小虹：國會多數黨組成內閣，內閣施政須對國會負責
(B)小君：為維護國王權威，議員受到限制而無言論自由
(C)阿雄：由於小黨林立，導致日後政治型態屬於多黨制
(D)阿輝：因選舉頻繁，平民有機會進入上議院擔任議員

50. 小卡：「近來媒體廣告上出現不少新商品，像是針對視力退化者所推出的大字體手機，還有專為年長者開發的易吸收營養品。」

大通：「可能是因為這些商品的需求者愈來愈多，所以才吸引更多業者投入這塊市場吧！」

上述對話內容最可能是在討論我國社會上的何種現象？

- (A)利用社會資源，彌補家庭功能 (B)都市化程度高，改變消費習慣
(C)受少子化影響，產業結構轉型 (D)平均壽命提高，人口結構改變

51. 有一位學者提及：「清朝嘉慶、道光年間，江浙地區出產要販售給西方國家的生絲不從上海出口，而要搬運到路程有十倍之遙的廣州，光是運費及利息就使成本約增加了35%至40%。」上述情況的出現與下列何者密切相關？

- (A)朝廷規定於廣州一口通商，外商只能在廣州貿易
(B)廣州位於中國海岸線的中點，和外國交易最便利
(C)上海為列強租界，禁止中國貨物由此運送出口
(D)上海遭受太平天國侵擾，僅能由廣州海運出口

52. 表(十二)是平平針對英國和日本二島國的比較，表中哪一項目的內容完全正確？

國家 項目	英國	日本
海陸位置	大西洋東側	太平洋西側
氣候類型	溫帶海洋性	溫帶海洋性
國家體制	共和國	君主國
區域結盟	為歐洲聯盟會員國	為東南亞國協會員國

- (A)海陸位置
(B)氣候類型
(C)國家體制
(D)區域結盟

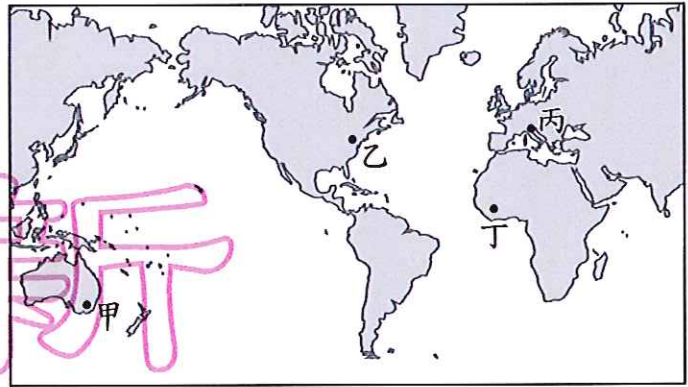
53. 某雜誌指出：「在2008年北京奧運之後，中國經濟面臨一個新的關卡，其高經濟成長的模式，已無法再仰賴出口低附加價值的產品來維持，於是加速推動長江三角洲的產業升級和整合。」根據上文所述，下列何者最可能為長江三角洲產業發展調整的方向？

- (A)由市場經濟型態轉為計畫經濟型態
(B)由民生工業為主轉型為重工業為主
(C)由滿足國內市場轉為開發海外市場
(D)由勞力密集產業轉為技術密集產業

54. 某知名網站的全球使用者高達數億人，連美國總統訪問非洲前，也邀請非洲民眾透過此網站傳達即時的意見與問題。下列何者最適合用來說明上述現象？

- (A)全球化現象中的國際分工趨勢
(B)工業發展造成的全球環境變遷
(C)科技發展衍生的科技倫理問題
(D)交通的革新縮短了時空的距離

55. 「哥倫布發現通往東方新航線的消息傳來，某城市的商人極度恐慌，債券暴跌，這些反應來自於其擔心對亞洲貿易的主導地位可能會被取代。一直到確知哥倫布並沒有真的找到抵達亞洲的航線，這裡的商人才驚魂甫定。」這座城市最可能位於



圖(十八)

- (A)甲 (B)乙
(C)丙 (D)丁

二、題組：(56~63 題)

閱讀下列選文，回答第 56 至 58 題：

臺灣由於降雨時間、空間分布不均，再加上河川坡陡流急，興建水利設施成為主要的水資源開發利用方式。圖(十九)為臺灣重要水利灌溉設施嘉南大圳的分布圖，該設施的水源主要來自曾文溪和「甲」河流，可供應雲林、嘉義、臺南地區十餘萬甲土地的農業用水，由於此項灌溉工程的完成，提供了較為充足的水源，使得原本無法穩定收成的作物產量因而大增。



圖(十九)

56. 根據上文，下列何者為上述設施興建之前此地作物無法穩定收成的原因？

- (A)平均年降雨量不足
(B)水源遭受工業汙染
(C)河川乾溼季水量變化大
(D)平原地區地層下陷嚴重

57. 根據灌溉地區判斷，圖(十九)中的甲河流應是下列何者？

- (A)大甲溪 (B)濁水溪
(C)高屏溪 (D)淡水河

58. 下列哪些物產在上述設施完工後，因為有了更穩定的生產條件而產量大增？

- (A)甘蔗、樟腦
(B)樟腦、茶葉
(C)茶葉、稻米
(D)稻米、甘蔗


閱讀下列選文，回答第 59 至 60 題：

以下是某人撰寫自己在德國生活的回憶：

在我七歲的某一天，報上出現「戰爭」這個標題，之後不斷出現「最後通牒」、「總動員」、「同盟國」等字眼。鄰居被徵召入伍時，大家尾隨歡送，甚至有人高喊：「好好教訓塞爾維亞人！」

十一歲時，前一天還在報上看到「敵軍企圖突破已遭擊退」，隔天卻在報刊亭外看到號外大標題寫著：「停戰協議業已簽署。」下面還列出停戰的嚴苛條件。

到了高中時，馬克的幣值劇烈波動：一磅馬鈴薯在前一天可能開價 50,000 馬克，今天卻要花多一倍的價錢；上星期五帶回家的薪水有 65,000 馬克，這星期二可能還買不到一包香菸。

 馬克：當時德國貨幣名稱。

59. 根據上文，作者七歲時爆發了下列哪場戰爭？
- (A)南北戰爭 (B)英法百年戰爭
(C)第一次世界大戰 (D)第二次世界大戰
60. 根據上文，發生於作者高中時的經濟現象，最可能是下列何者？
- (A)廠商哄抬價格 (B)貨幣大幅升值
(C)雇主調降薪資 (D)通貨膨脹嚴重

閱讀下列選文，回答第 61 至 63 題：

畜牧大國紐西蘭於 2004 年起，向農民徵收牛、羊、鹿的「放屁稅」，希望能藉此處理溫室氣體排放的問題。我國為降低二氧化碳的排放量，也思考過是否制定相關稅法來課徵綠色稅，但許多業者擔心競爭力會因此下降，引發反彈聲浪。

業者的擔心雖不無道理，但政府仍應思考課徵綠色稅的可行性，讓使用者反省能源的使用方式，提高能源的使用效率，進而達成節能減碳的目的。綠色稅是否課徵，各有其利弊得失，如何選出最佳方案，考驗著執政當局的智慧。

61. 我國若要採行上述方式來降低二氧化碳排放量，須經中央政府某院同意後方可執行。下列何者也是該院的職權？
- (A)掌理公務人員退休事宜 (B)彈劾違法失職政府官員
(C)提出總統、副總統罷免案 (D)審理政黨違憲之解散事項
62. 下列何者對生產者所造成的影響，與文中導致業者競爭力下降的因素相同？
- (A)員工紛紛離職 (B)部分原料漲價
(C)廠房租金降低 (D)全球化生產分工
63. 文末畫上雙底線處的論點，最適合用下列何項經濟學概念來說明？
- (A)比較利益 (B)機會成本
(C)外部效果 (D)受益原則