

102 試辦國中教育會考

社會科題本

請不要翻到次頁！

讀完本頁的說明，聽從監試委員的指示才開始作答！

※請先確認你的答案卡、准考證與座位號碼是否一致無誤。

請閱讀以下測驗作答說明：

測驗說明：

這是國中教育會考社會科題本，題本採雙面印刷，共 **13** 頁，有 **63** 題選擇題，每題都只有 一個正確或最佳 的答案。測驗時間從 **08:40** 到 **09:50**，共 **70** 分鐘。作答開始與結束請聽從監試委員的指示。

注意事項：

1. 所有試題均為四選一的選擇題，答錯不倒扣。
2. 試題中所附圖形，如有附上比例尺，以比例尺為依據作答；若無比例尺，則該圖僅作為參考，不代表實際大小。
3. 可利用題本中空白部分計算，切勿在答案卡上計算。
4. 依試場規則規定，答案卡上不得書寫姓名座號，也不得做任何標記。故意汙損答案卡、損壞試題本，或在答案卡上顯示自己身分者，該科測驗不予計列等級。

作答方式：

請依照題意從四個選項中選出一個正確或最佳的答案，並用 **2B** 鉛筆在答案卡上相應的位置畫記，請務必將選項塗黑、塗滿。如果需要修改答案，請使用橡皮擦擦拭乾淨，重新塗黑答案。例如答案為 **B**，則將 **Ⓑ** 選項塗黑、塗滿，即：**Ⓐ ● Ⓒ Ⓓ**

以下為錯誤的畫記方式，可能導致電腦無法正確判讀。如：


- Ⓐ **Ⓑ** Ⓒ Ⓓ — 未將選項塗滿
- Ⓐ **Ⓑ** Ⓒ Ⓓ — 未將選項塗黑
- Ⓐ ● **Ⓒ** Ⓓ — 未擦拭乾淨
- Ⓐ ● **Ⓒ** Ⓓ — 塗出選項外
- Ⓐ ● ● Ⓓ — 同時塗兩個選項

請聽到鈴（鐘）聲響後，於題本右上角方格內填寫准考證末兩碼，再翻頁作答

一、單題：(1~55題)

1. 圖(一)顯示2010年世界各洲人口數占全球人口總數的比例，圖中「甲」代表的是下列哪一洲？

- (A)歐洲
- (B)亞洲
- (C)非洲
- (D)美洲



圖(一)

2. 空心菜是家庭常食用的蔬菜，原產於中國，性喜溫暖溼潤，可耐澇、耐熱，但不耐寒，最適合的生長溫度為15°C至40°C。從氣候條件分析，圖(二)中哪一區域最適合栽種空心菜？

- (A)甲
- (B)乙
- (C)丙
- (D)丁



圖(二)

3. 「中國自1980年代經濟改革開放以來，積極地從事基礎建設。例如，近年來興建的某條長程高速鐵路，可連結中國的政治中心與最大經濟中心。」根據上述判斷，此鐵路路線的起迄點應為下列何組？

- (A)北京—上海
- (B)重慶—北京
- (C)上海—廣州
- (D)廣州—重慶

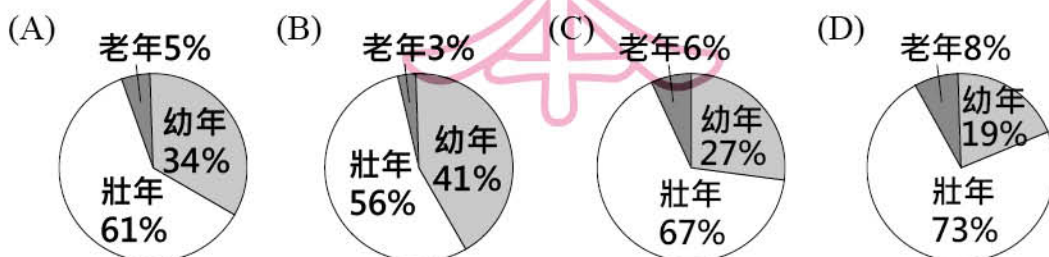
4. 圖(三)是介紹某種礦產的海報，根據臺灣各國家公園的特色判斷，該海報最適合展示於下列哪一個國家公園的遊客中心？

- (A)玉山國家公園
- (B)墾丁國家公園
- (C)陽明山國家公園
- (D)太魯閣國家公園



圖(三)

5. 「人口紅利」愈高的國家，其扶養比就愈低，因此勞動力較充足，有利於國家整體經濟發展。下列是某國四個時期的人口結構，其中哪一時期具有最高的人口紅利？



6. 圖(四)是配合某一原住民族祭典所發行的車票。由車票內容判斷，此一祭典應與下列何族有關？

(A)布農族
(B)排灣族
(C)泰雅族
(D)賽夏族



圖(四)

7. 同學們互相討論一位歷史人物的事蹟：

明慧：「他頒布著名的法典，並將法典精神向外傳布。」

芊芊：「他打敗許多強敵，征服了大半個歐洲。」

阿智：「他在征服的地區內，取消貴族和教士的特權，傳達大革命的主張。」

依此推斷，他們是討論下列哪一位人物？

(A)拿破崙 (B)查理曼
(C)查士丁尼 (D)路易十四

8. 老師用圖(五)講述中國現代史，就圖片內容判斷，老師講解的主題最可能是下列何者？

(A)五四運動
(B)西安事變
(C)九一八事變
(D)六四天安門事件



圖(五)

9. 十九世紀中葉，臺灣的茶葉外銷量迅速增加，還吸引了外來的資金和技術到臺灣。若想了解當時臺灣茶葉出口的詳細情形，最適合參閱下列何項資料？

(A)淡水海關報告
(B)熱蘭遮城日誌
(C)雍正朝硃批奏摺
(D)臺灣總督府專賣局檔案

硃批奏摺：指皇帝用朱筆所批閱的奏章。

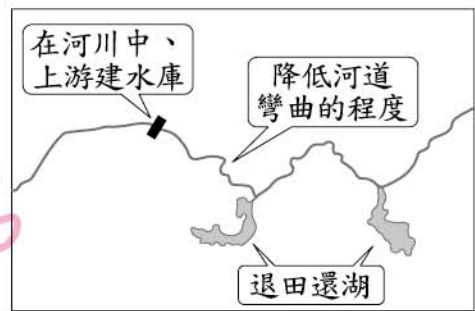
10. 阿貴想進一步了解課本中有關西亞古文明的歷史，到博物館參觀「美索不達米亞文明展」。阿貴在這次展覽中，最可能看到哪一項西亞古文明的文物？

(A)一面由黃金與寶石製成的法老面具
(B)刻在一塊石柱上的《漢摩拉比法典》
(C)考古學家發現的數塊山頂洞人化石
(D)一具具強壯威武的陶塑兵馬俑士兵

11. 近年來，由於跨國婚姻與工作等因素，使得許多外籍人士移居臺灣，因此政府經常舉辦跨國文化的交流活動，希望藉此幫助國人認識與我們共同生活的新夥伴。上述政府的作法主要是為了達到下列何種目的？
- (A)增加就業機會
(B)促進族群和諧
(C)發展國際貿易
(D)落實地方自治
12. 國人常視姓氏為宗族延續的重要象徵，過去我國《民法》對子女姓氏的規定主要是「從父姓」，但民國96年則修訂為「依父母雙方書面之約定」。上述法規修訂的主要目的最可能是下列何者？
- (A)加強親權行使
(B)落實性別平等
(C)維護社會倫理
(D)增進公共利益
13. 我國司法制度原則上為三級三審制，但刑事訴訟等程序仍可能會對人民權利造成侵害，因此我國制定《刑事補償法》，使坐冤獄的受害人可依法向國家請求賠償。這種制度主要是為了補償人民被剝奪的哪一項基本權利？
- (A)請願權
(B)選舉權
(C)人身自由權
(D)應考試服公職權
14. 某日，阿振發現隔壁的空屋是販毒集團的毒品製造工廠，擔憂毒品流入市面勢必危害治安。根據我國法律規定，他可以採取下列哪一種作法？
- (A)向地檢署按鈴申告提起「公訴」
(B)向檢察官或者警察人員「告發」
(C)依目擊情形向法官提出「告訴」
(D)請律師直接向法院提起「自訴」
15. 居住在嘉義縣朴子市的宏達，因覺得住家周遭的路燈照明不足，讓經常工作晚歸的他感到危險，於是向當地的地方民意代表陳情，希望能獲得相關單位的重視。根據上述內容判斷，宏達所陳情的對象最可能是下列何者？
- (A)縣長
(B)市議員
(C)立法委員
(D)市民代表

16. 圖(六)是中國政府曾在長江實施過的三項措施，這些措施分別會導致各種不同的效益與問題。下列何者是三者的共同效益？

- (A)提高生物的多樣性
(B)增加可耕地的面積
(C)降低洪水氾濫機率
(D)有效利用水力資源



圖(六)

17. 「……芬蘭在這種限制下，要架設多少電線桿、拉多少電話線，才能構成完整的通訊網？解決之道就是發展無線通訊網路(行動電話)，只需成本低廉的『點狀』基地台，不必高成本的『線狀』電話線。」根據芬蘭的地理條件，上文所提到的「限制」最有可能是指下列何者？

- (A)土壤貧瘠、地質脆弱
(B)山勢陡峭、河短流急
(C)湖泊眾多、地廣人稀
(D)峽灣發達、海岸曲折

18. 在地表水較為缺乏的地區，近來拜深井技術之賜，農人可由深達一公里的地層中抽取地下水，以水井為中心灌溉出圓形的農地，每塊農地的直徑有數百公尺到三公里長，為高度機械化的耕作模式。上文中所描述的農地景觀在下列哪個地區最為常見？

- (A)中國 珠江三角洲 (B)印度 東北部丘陵
(C)巴西 亞馬孫盆地 (D)美國 中西部平原

19. 臺灣自加入WTO之後，除了享受會員國的權利之外，也必須面對許多衍生的問題。表(一)為2006年我國國產稻米與美國進口稻米之價格比較，造成二者差異的原因，與下列何項臺灣農業特色的關連性最密切？

表(一)

產地	平均價格 (新臺幣/公斤)
臺灣	25.74
美國	15.71

- (A)生產集約度下降
(B)農村人口高齡化
(C)農場經營規模小
(D)休閒農業的興起

20. 「這個組織內的成員國大多擁有豐富的天然資源，所生產的橡膠、錫礦、棕櫚油、椰子等，皆占世界重要地位；有些國家還出產石油、天然氣、寶石等。此外，由於多元的自然及文化景觀，每年吸引大量國外觀光客前往旅遊。」上文中所指的組織應是下列何者？

- (A)歐洲聯盟 (B)東南亞國家協會
(C)北美自由貿易區 (D)石油輸出國家組織

21. 十六世紀歐洲宗教改革後，路德教派、喀爾文教派及英國國教派等統稱「新教」，這些教派雖然教義各有不同，但也有一些共同理念，下列何者為當時新教的共同理念？

(A)鼓吹成立耶穌會
 (B)強調贖罪券的功能
 (C)否定羅馬教會的權威
 (D)反對君主權力高於教會

22. 圖(七)為臺灣人發行的某刊物對當時社會活動的報導。根據內容判斷，此一刊物最可能是下列何者？

(A)《新青年》
 (B)《美麗島》
 (C)《臺灣民報》
 (D)《自由中國》

臺南的文協演講

臺灣文化協會創立以來，對於社會教育，很有貢獻。……臺南本部擇地設置讀報社，擬開羅馬字講習會，以普及民眾的文化。

文化協會已於六月一日起三夜，開文化演講會，聽講者興味津津，深感有裨益，俱希望能繼續開會，啟同胞的智識。

圖(七)

23. 圖(八)是小明在書店看到的漫畫，其內涵最接近春秋戰國時代哪一學派的思想？



圖(八)

(A)儒家 (B)道家 (C)墨家 (D)法家

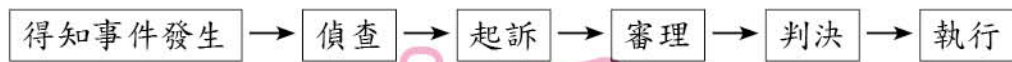
24. 沈葆楨曾上奏朝廷，指出為了防範列強的野心，亟需開墾臺灣山地，請求朝廷廢除渡臺等禁令。沈葆楨來臺開墾建設，與下列何者關係密切？

(A)林爽文率眾反清
 (B)鄭成功占領臺灣
 (C)臺灣民主國成立
 (D)牡丹社事件發生

25. 清末之時，曾有人主張「師夷長技以制夷」，而後恭親王則提出「自強之術，必先練兵」，並主導新政令的推行，當時朝廷推動改革的重要主張為何？

(A)全盤西化是走向富強的主要條件
 (B)學習西方科技軍事，以強化中國武力
 (C)政治體制的改革是追求富國強兵的基礎
 (D)宣揚中國傳統文化，質疑西方科學知識

26. 政府可藉由司法制度，以達成國家伸張正義的功能。圖(九)是某一種衝突處理的程序，下列何種事件最可能依圖中程序處理？



圖(九)

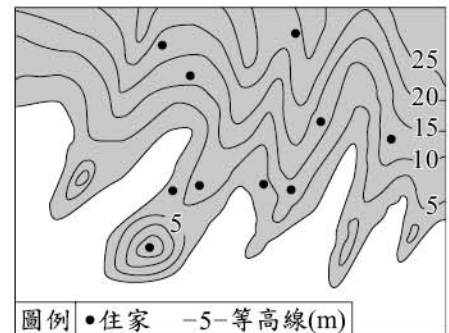
- (A)不滿停業處分的訴訟 (B)拒絕償還債務的糾紛
(C)持械傷害他人的行為 (D)政黨違憲案件的審理
27. 表(二)是四位我國甲縣縣民的基本資料，若下個月將辦理地方行政首長選舉，僅根據表中內容判斷，下列何者最可能具備此次甲縣縣長選舉的候選人資格？
- | 姓名 | 年齡(歲) | 備註 |
|-----|-------|------------|
| 曾好勤 | 28 | 明年褫奪公權期限屆滿 |
| 金美麗 | 23 | 設籍甲縣且住滿二個月 |
| 張一偉 | 50 | 連任三屆甲縣民意代表 |
| 林發達 | 39 | 已連任一次的現任縣長 |
- (A)曾好勤
(B)金美麗
(C)張一偉
(D)林發達
28. 某位民眾連續撥打多通電話通報火災，但消防隊員趕到現場後發現並無此事，因此消防單位表示，若這位民眾是亂打電話，將不排除對其開罰。根據上述內容判斷，若這位民眾被開罰但不服時，依法他應先採取下列何種方式進行權利救濟？
- (A)向地方法院提起訴訟
(B)向調解委員會聲請調解
(C)向訴願管轄機關提起訴願
(D)向行政及立法機關提出請願
29. 我國中央政府中的行政與立法部門，對重大政策出現歧見時，可以採取提出覆議、不信任案等方式來因應，這些制度的設計最符合下列何者的意涵？
- (A)分權制衡 (B)主權在民
(C)均權制度 (D)政黨政治
30. 大偉與阿和各自製作燒餅或油條，大偉製作二者皆具有絕對利益，且每分鐘產量相等，若依比較利益法則分工，大偉將因機會成本較低而負責製作油條。根據上述內容判斷，下列何者最可能是大偉與阿和的商品產量比較表？
- (A) (B) (C) (D)
- | | | |
|----|----|----|
| | 燒餅 | 油條 |
| 大偉 | 3 | 3 |
| 阿和 | 4 | 2 |
- 單位：個/分鐘
- | | | |
|----|----|----|
| | 燒餅 | 油條 |
| 大偉 | 3 | 3 |
| 阿和 | 2 | 2 |
- 單位：個/分鐘
- | | | |
|----|----|----|
| | 燒餅 | 油條 |
| 大偉 | 3 | 3 |
| 阿和 | 1 | 2 |
- 單位：個/分鐘
- | | | |
|----|----|----|
| | 燒餅 | 油條 |
| 大偉 | 3 | 3 |
| 阿和 | 2 | 1 |
- 單位：個/分鐘

31. 「立夏小滿，雨水相趕」這句諺語是形容臺灣每年逢立夏、小滿二節氣時，經常下雨，雨水紛至。根據表(三)二十四節氣的時間判斷，此時降雨的最主要成因為下列何者？

表(三)

陽曆 2月至 4月						陽曆 5月至 7月					
立春	雨水	驚蟄	春分	清明	穀雨	立夏	小滿	芒種	夏至	小暑	大暑
陽曆 8月至 10月						陽曆 11月至 翌年 1月					
立秋	處暑	白露	秋分	寒露	霜降	立冬	小雪	大雪	冬至	小寒	大寒

- (A)潮溼空氣受地形的抬升
(B)冷暖空氣交會形成鋒面
(C)日照強烈導致對流旺盛
(D)來自海洋的熱帶性低壓
32. 圖(十)為某沿海地區的住家分布。某日，因外海發生強烈的海底地震，當地政府對沿海地區發布海嘯警報，根據預測，海嘯將侵襲海拔10公尺以下的地區，因此政府強制撤離此海拔以下的居民，則圖中有幾戶居民會被強制撤離？
- (A) 3 (B) 4
(C) 5 (D) 6
33. 在熱帶及副熱帶的大陸西岸海域，持續上升的深層寒冷海水帶來豐富營養鹽，可供應浮游生物所需，故吸引大量魚群聚集，成為良好的漁場。下列何地最可能因具備上述條件而有良好的漁場？
- (A)中國南海沿岸
(B)挪威大西洋沿岸
(C)秘魯太平洋沿岸
(D)美國墨西哥灣沿岸



圖(十)

34. 阿基到倫敦工作後，他的爸媽常打電話跟他聯繫。表(四)為臺灣某電信公司國際電話計費方式，阿基分別在下列四個倫敦時間接到來自臺灣的電話，其中哪一通電話的費率最便宜？
- (A) 01:00 (B) 05:00
(C) 13:00 (D) 19:00

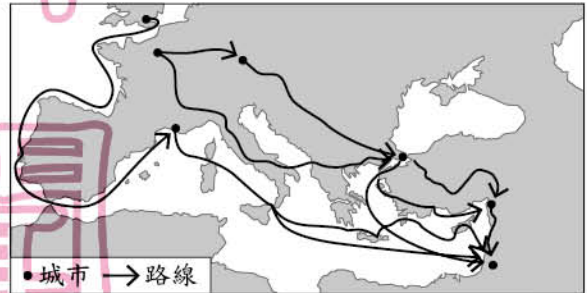
表(四)

臺灣時間	費率(元/分)
00:00~06:00	7
06:00~09:00	8
09:00~18:00	10
18:00~24:00	9

35. 趙博士利用氣象衛星及各地氣象站的資料，整理全球各地的冬季平均氣溫分布，他可觀察到下列何者的冬溫有遞增的現象？
- (A)自 23.5°S 向 66.5°S 移動
(B)從智利北部到其國土南端
(C)歐洲自荷蘭向東至俄羅斯
(D)由中國華北沿 35°N 到日本

36. 老師講述中國歷史時說到：「這個民族是中國歷代邊疆民族中，漢化程度較淺的民族之一。他們入主中國後，為了保持統治地位，各級長官甚少任用漢族人士，對漢人、南人採取高度控制的態度及手段，結果引起漢人、南人的不滿與反抗。」老師介紹的是下列哪一民族？
- (A)鮮卑族 (B)契丹族
(C)蒙古族 (D)女真族

37. 圖(十一)是歷史上某事件的部分路線圖，此事件最可能是下列何者？



圖(十一)

38. 根據清朝官方統計資料，上海在1840年之前並無任何生絲出口，但在1840年代後期，生絲的出口量卻高達一萬多包，其中的變化應與下列何者的關係最密切？
- (A)鴉片戰爭
(B)英法聯軍
(C)太平天國
(D)八國聯軍

39. 丁丁在口頭報告時說：「這個地區的物產相當豐富，它早期的開發，以六朝貢獻最大。……隨著日後運河的修築，更進一步成為大唐帝國的重要經濟命脈。」丁丁的報告，最可能在描述圖(十二)中哪一個地區？



圖(十二)

40. 圖(十三)是某本臺灣鐵道旅遊指南上所刊載的部分訊息，根據內容判斷，此情況最早可能出現在下列何時？
- (A)十七世紀中期
(B)十八世紀後期
(C)十九世紀中期
(D)二十世紀前期

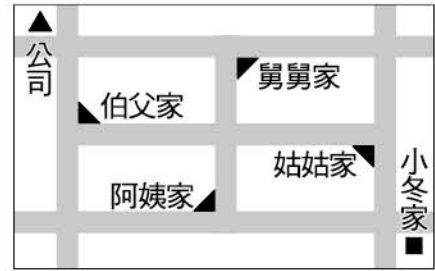
設置旅行紀念章的車站

基隆、臺北、板橋、桃園、
新竹、苗栗、臺中、彰化、
嘉義、臺南、高雄、屏東、
宜蘭、花蓮港、臺東、……

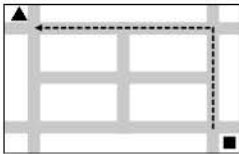
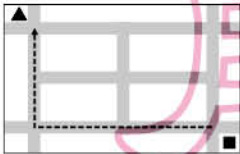
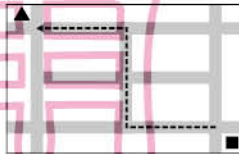
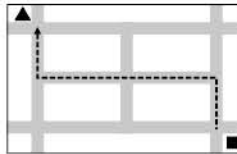
圖(十三)

41. 我國《民法》規定，不同年齡的人其行為在法律上具有不同的效力。若僅依年齡的條件判斷，而不考慮其他的因素，下列哪一種情況最可能屬於《民法》上有效的法律行為？
- (A)六歲的小強，將媽媽的金項鍊送給小如
 (B)十四歲的阿章，收到朋友贈送的遊樂器
 (C)十八歲的陳明，跟房東訂房屋租賃契約
 (D)十九歲的小紀，為了創業而向銀行貸款

42. 小冬的媽媽想為小冬的外公舉辦七十歲的壽宴，於是交代他到公司上班之前，順道發送邀請卡給外公的其他兒女們，圖(十四)是小冬家、小冬的親戚家和公司的位置圖。根據上述內容判斷，小冬應選擇下列哪一路線，才能完成媽媽交付的任務？



圖(十四)

- (A)  (B)  (C)  (D) 

43. 右列是小曹在雜誌上所看到的一段內容。根據內容判斷，下列何者最能反映文中的看法？
- (A)預算應平均分配以分散風險
 (B)社會福利政策具有外部效果
 (C)經濟發展後會降低社會福利
 (D)政府施政應要考量利潤多寡

政府不應以發展經濟為理由，將預算優先使用在重大建設上，而刪減社會福利經費，並將其視為不具生產性的支出。因為若社會福利制度完善，不但有助於穩定社會及政治環境，進而還能有利於經濟發展。

44. 因應全球暖化，各地民眾紛紛身體力行來落實節能減碳，例如：改以腳踏車來代步或休閒，使得騎腳踏車逐漸成為一種全民運動。上述轉變最能彰顯下列哪一種層次的社會變遷？
- (A)器物生活 (B)科學技術
 (C)價值觀念 (D)社會制度

45. 根據我國《憲法》及增修條文的相關規定，若要對總統、副總統進行彈劾，必須先由立法院提案通過後，再經何種程序才可完成？
- (A)大法官審理
 (B)監察院表決
 (C)公民投票複決
 (D)最高法院判決

46. 三位同學聚在一起閒聊自己的中秋節假期生活，下列是他們的對話內容：

安安：「我爸說中秋月圓人團圓，所以全家回老家跟奶奶一起賞月、吃月餅。」

皓皓：「媽媽開車帶我們出去玩，不過我坐在後座忘記繫安全帶，被警察開了一張罰單，有點掃興。」

美美：「傍晚全家人一起向麥加的方向禮拜後，我們開始烤肉，不過我們不能烤豬肉。」

上述三位同學的談話內容，依先後順序最可能屬於哪些社會規範？

- (A) 宗教信仰、風俗習慣、倫理道德
- (B) 宗教信仰、法律規範、倫理道德
- (C) 風俗習慣、倫理道德、宗教信仰
- (D) 風俗習慣、法律規範、宗教信仰

47. 圖(十五)是某一組織的部分章程，該組織最可能是下列何者？

- (A) 唐代的市舶司
- (B) 中古西歐的行會
- (C) 荷蘭東印度公司
- (D) 總理各國事務衙門

*非在本城領有許可證的師傅，不得以任何方式在本城製造或出售帽子，違者將沒收其製造及出售的貨品。
*本業學徒修業至少七年。
*本業工人製帽若不合規則，欺騙平民者，須繳罰款。

圖(十五)

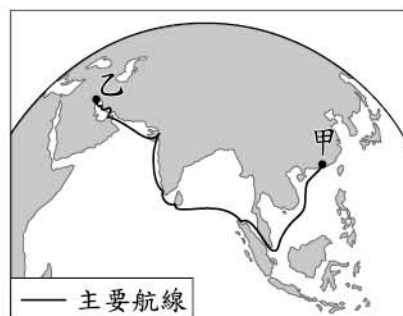
荷蘭東印度公司 = 荷蘭聯合東印度公司

48. 泰國曾因政變而出現政局動盪的現象，當時有部分人士建議泰皇應出面調停以穩定政局，但泰皇依法僅是不具實權的國家元首，多數人仍認為泰皇並不適合介入政治上的紛爭。就目前各國政府體制而言，下列何者與上述國家元首的性質最類似？

- (A) 日本首相
- (B) 英國女王
- (C) 中華民國總統
- (D) 沙烏地阿拉伯國王

49. 圖(十六)為九世紀時往返於中國與波斯灣之間的海上絲路主要航線，此交通網配合盛行風的週期，讓東方和西方的商品可以互相交流。若在當時有一艘滿載紙張、墨、絲綢、瓷器的帆船，乘著盛行風出發至另一地進行貿易，則根據該船所載貨物來源及盛行風風向判斷，下列關於此船航行的描述何者正確？

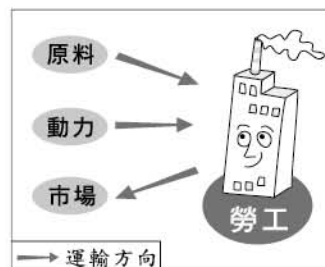
- (A) 於夏季由甲地出發
- (B) 於冬季由甲地出發
- (C) 於夏季由乙地出發
- (D) 於冬季由乙地出發



圖(十六)

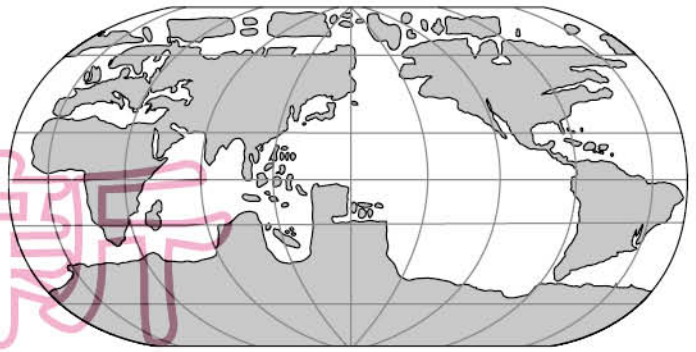
50. 圖(十七)是某工廠選擇廠址的區位考量，根據該工廠所重視的區位要素判斷，其最可能是下列哪一種工廠？

- (A) 麵包
- (B) 煉鋁
- (C) 紡織
- (D) 罐頭



圖(十七)

51. 地圖所描繪的樣貌可呈現當時人們對世界的認知。古代中國曾出版了參考當時西方世界地圖所繪製的地圖，如圖(十八)所示。根據圖中的資訊，此圖最早可能出現於下列何時？



圖(十八)

- (A)玄奘西行印度取經時
(B)蒙古西征攻陷歐洲時
(C)鄭和七次下西洋期間
(D)明末傳教士來華期間

52. 表(五)為十七世紀荷蘭勢力在某地的發展情況，就內容判斷，此地應位於圖(十九)何處？

表(五)

時間	事件
1604年	荷蘭人入據此地，中國官方出兵驅逐。
1622年	荷蘭人再次占領此地。
1624年	中國官方出兵此地，經調解協商，荷蘭人破壞城堡遷離。



圖(十九)

- (A)甲 (B)乙 (C)丙 (D)丁
53. 就全球而言，因女性平均壽命較長，所以老年人口數女多於男，但臺灣因1949年遷臺者男性遠多於女性，且陸續邁入高齡，影響了老年人口性別比。此外，臺灣受傳統重男輕女觀念影響，新生兒性別比有失衡的狀況。根據上文判斷，表(六)中甲、乙、丙、丁何者是指臺灣？

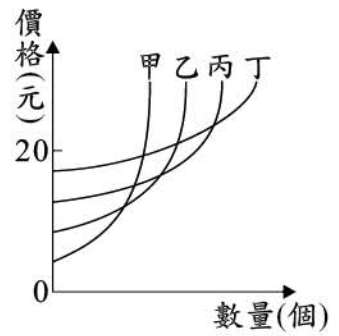
表(六)

	2006年性別比	
	新生兒	老年人口
全球	106	79
甲	105	73
乙	110	98
丙	100	102
丁	108	68

- (A)甲
(B)乙
(C)丙
(D)丁
54. 有一本書提到歷史上某時期的情況：「住在城外的農民大多生活艱苦，他們須繳交沉重的賦稅給莊園主人，並為其服勞役。教堂是當時精神生活的中心，神職人員以拉丁語禱告，為民眾舉行各種宗教儀式。」上文最可能是描述下列何時何地的情況？
- (A)西元一世紀的羅馬附近
(B)西元八世紀的巴格達附近
(C)西元十一世紀的巴黎附近
(D)西元十三世紀的君士坦丁堡附近

55. 圖(二十)是甲、乙、丙、丁四家廠商的產品供給曲線。由圖中內容判斷，當此四家廠商所生產的產品售價均為20元，且所有產品全都售完時，哪一家廠商的銷貨收入最高？

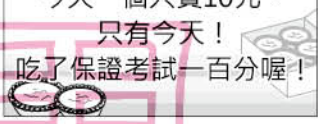
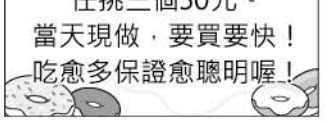
- (A)甲
(B)乙
(C)丙
(D)丁



圖(二十)

二、題組：(56~63題)

閱讀下列選文，回答第 56 至 58 題：

<p>圖(二十一)、圖(二十二)是學校附近的兩家西點烘焙坊，為了吸引學生上門消費，分別發送的傳單：</p>	<p>☆☆ 好味道蛋塔店 ☆☆ 獨家配方，保證好吃~ 原價一個25元， 今天一個只賣10元。 只有今天！ 吃了保證考試一百分喔！</p> 	<p>好好吃甜甜圈專賣店 保證使用有機原料！ 每個一律20元， 任挑三個50元。 當天現做，要買要快！ 吃愈多保證愈聰明喔！</p> 
	<p>圖(二十一)</p>	<p>圖(二十二)</p>

56. 四位同學看到傳單後，分別作出以下反應，下列何者的描述最符合該地市場的經濟現況？

- (A)阿祥：「看來通貨膨脹有日漸嚴重的趨勢。」
(B)浩子：「蛋塔在傳單發送前處於供不應求。」
(C)小嬌：「目前我們採行的是統制經濟制度。」
(D)小霖：「交易市場由一隻看不見的手掌控。」

57. 根據圖(二十二)中關於價格的內容判斷，好好吃甜甜圈專賣店的銷售策略，與下列何者運用的經濟學概念最類似？

- (A)反映成本，即將漲價
(B)口味獨特，僅此一家
(C)四人同行，一人免費
(D)手工製作，經典限量

58. 若我國政府單位根據傳單內容判定兩家業者均違法，下列何者最可能是他們違法的原因？

- (A)使用劣質原料，危及人民健康安全
(B)刊登不實廣告，損害消費民眾權益
(C)販賣逾期產品，不願接受顧客退貨
(D)壟斷商品市場，聯合哄抬商品價格

閱讀下列選文，回答第 59 至 61 題：

圖(二十三)改繪自乾隆12年(西元1747年)《重修臺灣府志》中的「總圖」，其採用的地圖繪製方式是清代常見的山水畫法。由於當時各地的開發程度不同，所以對地理環境的掌握不夠完整，再加上繪製方式的限制，本圖範圍並未涵蓋臺灣全島，描繪也不如現今實測地圖來得精確，但圖中所傳達的部分地理資訊，仍可供後人參考。



圖(二十三)

59. 上圖中「○」代表的是各級行政中心，何者是當時臺灣的最高行政單位所在地？
(A)甲 (B)乙 (C)丙 (D)丁
60. 對照現今臺灣行政區的畫分，下列哪一個行政區大部分未被涵蓋在此圖範圍內？
(A)基隆市 (B)新竹縣
(C)高雄市 (D)花蓮縣
61. 上圖中「甲」行政中心下方的虛線範圍內有許多島嶼，其成因應為下列何者？
(A)火山噴發而成 (B)丘陵沒入海中
(C)海中漂沙堆積 (D)珊瑚礁岩露出

閱讀下列選文，回答第 62 至 63 題：

下文是某人自述其生平的摘要：

公學校畢業後，我在家鄉苗栗做雜工，後來由於當時的統治者實施徵兵，我被徵召成為皇軍，為躲避美軍的轟炸，每天挖防空洞。

光復後，國軍接收臺灣，並以高薪吸引青年從軍，我馬上報名參加，之後政府派遣我們到中國大陸參與內戰。在我們部隊轉移陣地的過程中，遭到敵軍的埋伏，我被俘虜並編入敵軍，轉而對國軍作戰。

1949年後，我在中國大陸落地生根，因兩岸對立，長期無法和臺灣家中聯絡，直到臺灣的政策改變，開放兩岸探親，才得以和家人重逢。

62. 上文中主角的身分在不同時期而有所差異，下列何者正確呈現出這種轉變？
(A)國民政府的士兵→共產黨的士兵→臺籍日本兵
(B)國民政府的士兵→臺籍日本兵→共產黨的士兵
(C)臺籍日本兵→共產黨的士兵→國民政府的士兵
(D)臺籍日本兵→國民政府的士兵→共產黨的士兵
63. 上文中「臺灣的政策改變」最可能是指下列何者？
(A)解除戒嚴 (B)退出聯合國
(C)實施地方自治 (D)加入世界貿易組織

📖 臺籍日本兵：
指臺灣籍的日本兵。